

## ÚLOHY NA DOMA RŠF I. STUPEŇ

OD 15. 3. 2021 DO 19. 3. 2021

Tu napíš tvoje meno a triedu: \_\_\_\_\_

### ÚLOHA 1

Pomiešané obrázky

Nájdí v riadku obrázok, ktorý nepatrí medzi ostatné v skupine. Preškrtni ho a ostatné obrázky vyfarbi.




## ÚLOHA 2

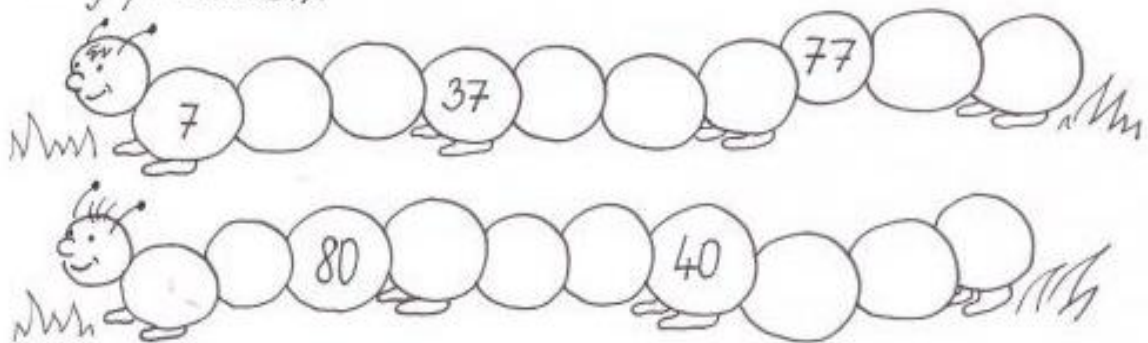
Sčítanie a odčítanie v obore do 100

Vypočítaj príklady podľa pokynov.

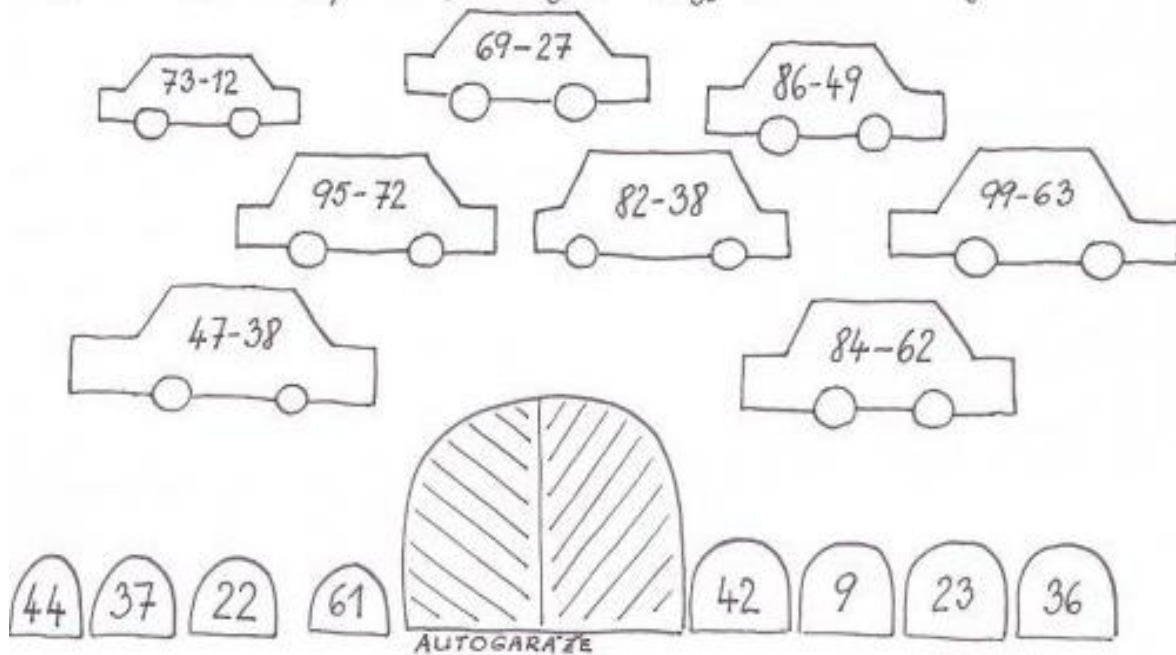
1. Vypočítaj príklady a výsledok napíš do správnej trávy.



2. Počítaj po desiatkách.



3. Každému autičku prirad' správnu garáž a vyfarbi ich rovnakou farbou.



### ÚLOHA 3

Lienkam nakresli na druhú stranu rovnaký počet bodiek.

Šípkou označ smer od najmenej líenky po najväčšiu.

Spočítaj lístky kvetov a do ich stredu nakresli bodky tak, aby ich bolo o jednu menej ako je lístkov.

Každý kvet spoj čiarou s lienkou.

Čoho je viac, čoho je menej?

Kvetov je .....

Lienok je .....

Viac je .....

Menej je .....



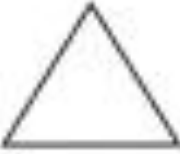



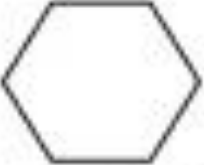




## ÚLOHA 4

### Geometrické tvary

Táto úloha sa Ti môže zdať trochu náročná, no ja opäť verím, že to zvládneš.

Nad každý geometrický tvar napíš ako sa volá. Možno nebudeš vedieť meno každého z nich. Nevadí, nemusíš ho tam napísať.

No to, koľko má strán, budeš vedieť spočítať všade. Počet strán daného geometrického tvaru vyznač, zakrúžkuj dané číslo pod tvarom.

 1 3 4	 2 0 3	 3 5 4
 4 1 3	 4 6 2	 0 2 1
 3 6 5	 3 5 4	 10 8 7

A teraz popros rodičov, aby Ti pomohli odfoťiť úlohy a pošli Tvojej pani učiteľke. Ďakujem.