

### III.D

### ÚLOHY

**Pondelok 15.3.2021**

**MATEMATIKA** – Násobilka a delilka 7.

1.7=7	7:7=1
2.7=14	14:7=2
3.7=21	21:7=3
4.7=28	28:7=4
5.7=35	35:7=5
6.7=42	42:7=6
7.7=49	49:7=7
8.7=56	56:7=8
9.7=63	63:7=9
10.7=70	70:7=10


Doplň	
__:7=8	70:__=10
__.10=70	7.__=63
7.0=___	7.9=___
14: __=2	42:7=___
21:7=___	7.8=___
__.7=49	35: __=5

**SLOVENSKÝ JAZYK** – Jar (čítanie).

**Jar**  
*Ján Navrátil*

**S**lnko už dalo zelenú  
(semafor na vysokej veži,  
čo sa tak teplo ježí  
na detských výkresoch)  
a na zeleno píska.

Zelená oraniskám,  
záhrade, lúke, lesu  
i piesni,  
ó, už ju nesú,  
už ju k nám sťahujú  
v zobákoch vtáci  
až zo zelených krajín.



Zelená tráve, nech je sienka,  
zelená prvosienkam,  
zeline, divozelu  
i makovému zrnku.

Zelená  
na všetkých cestách k slnku.

(Z knihy *Z hlíny a rosy*)

- 1 Vymenuj, čomu v básni dalo slnko zelenú. Porozmýšľaj a povedz, aké významy má v básni spojenie „slnko už dalo zelenú“.
- 2 Povedz, čo majú spoločné slová zelina a divozel. Vymysli a napíš k nim ďalšie slová.
- 3 Vysvetli, prečo má báseň názov *Jar*.


**Utorok 16.3.2021**

## SLOVENSKÝ JAZYK – Správa.

1.a) Prepíš správu

b) Nájdi a podčiarkni v správe päťslabičné slovo:

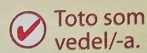
Dňa 14.10.2018 sa v Základnej škole na Tbiliskej ulici v Bratislave konala výstava jesenných plodov. Obdivovali sme plody, ktoré dozreli v račianskych záhradách. Ochutnali sme tradičné štrúdle a jablkové koláče.



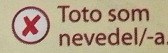
2. napíš SMS **správu**, v ktorej použiješ slová **myslieť, rýchlo, strýko, pozývať**.

## PRÍRODOVEDA – Stavba tela živočíchov.

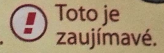
### Palubný denník



Toto som vedel/-a.



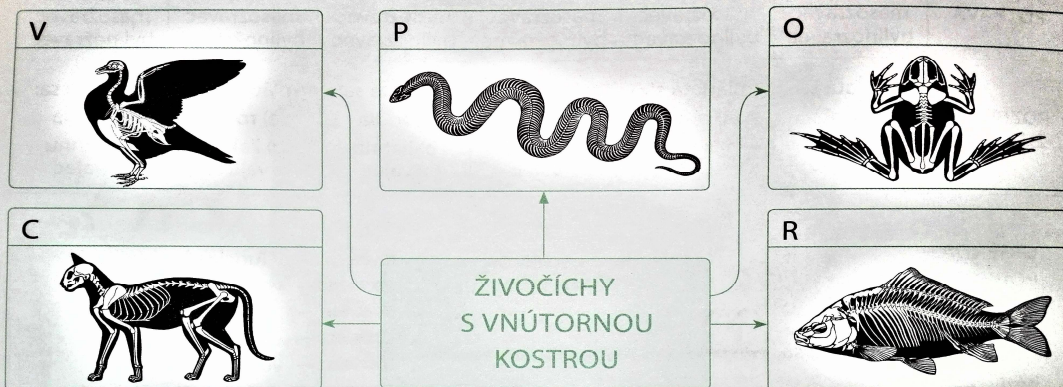
Toto som nevedel/-a.



Toto je zaujímavé.

- Živočíchym delíme podľa toho, či **majú** v tele **vnútornú kostru**, alebo nemajú **vnútornú kostru**.
- Živočíchym, ktoré **majú** v tele **vnútornú kostru**, sú **stavovce**. **Základom** ich **kostry je chrbtica zložená zo stavcov**. Rozdelujeme ich na **cicavce, vtáky, plazy, obojživelníky a ryby**.
- Živočíchym, ktoré nemajú **vnútornú kostru**, sú **bezstavovce**.

Dopíš do pojmovej mapy chýbajúce údaje. Pomôž si informáciami z palubného denníka.



Porovnaj živočíchym s vnútornou kostrou z úlohy 2 s niektorými živočíchym bez vnútornej kostry. Povedz, v čom sa odlišujú.



Doplň vety. Pomôž si informáciami z palubného denníka.

Živočíchý, ktoré majú v tele vnútornú kostru, sú \_\_\_\_\_.

Základom ich kostry je \_\_\_\_\_ zložená zo \_\_\_\_\_. Rozdeľujeme ich

na \_\_\_\_\_,

a \_\_\_\_\_. Živočíchý bez vnútornej kostry sú \_\_\_\_\_.

**Streda 17.3.2021**

### **ANGLICKÝ JAZYK**

1. Opíšte si na čiaru tieto slovíčka a naučte sa ich:

in = v \_\_\_\_\_


on = na \_\_\_\_\_

under = pod \_\_\_\_\_

where = kde \_\_\_\_\_

in on under

2. Doplňte do viet správnu predložku:



The bag is \_\_\_\_\_ the tree.

The ball is \_\_\_\_\_ the net.

The cat is \_\_\_\_\_ the slide.

### **MATEMATIKA** – Násobilka a delilka 7.

Snehulienka nakupovala pre 7 trpaslíkov.  
Doplň jej nákupný zoznam.

Toto je  
Snehulienkina  
násobilka.

Každému:	Spolu:	
4 fixky	$4 + 4 + 4 + 4 + 4 + 4 + 4 =$	, čiže $7 \cdot 4 =$
5 ceruziek	$5 + 5 + 5 + 5 + 5 + 5 + 5 =$	, čiže $7 \cdot =$

- Doplň správne odpovede:

Janko dostal 3 sprvy. Katka sedemkrát viac. Katka dostala \_\_\_\_ správ.

Miško telefonoval za týždeň 21-krát. Petra sedemkrát menej. Petra telefonovala \_\_\_\_ krát.

- Vypočítaj. Zakrúžkuj párne výsledky.

7.4=

7.0=

7.6=

7.2=

7.5=

6.2=

7.7=

5.8=

7.1=

6.7=

4.0=

7.10=

1.7=

2.9=

7.8=

3.7=

**Štvrtok 18.3.2021**

**ANGLICKÝ JAZYK**

1. Zakrúžkujte správne slovo.



tree

swing



seesaw

slide

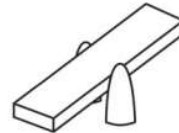


slide

swing

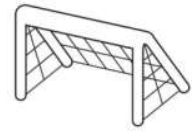
swing

seesaw



net

tree



2. Opíšte na čiaru tieto vety:

a/ Where's the ball? \_\_\_\_\_

b/ It's on the slide. \_\_\_\_\_

c/ What's this? \_\_\_\_\_

d/ It's a seesaw. \_\_\_\_\_

**SLOVENSKÝ JAZYK** – Čo vedeli už naši prarodičia.

# Čo vedeli už naši prarodičia



**M**arcový prach a májové blato,  
to je sedliakovi nad zlato.

**N**a Jozefa si vtáčatá  
na lupčianskom jarmoku  
pesničky kupujú.

**K**eď na Veľký piatok nie je mráz,  
býva mnoho hribov.

**Z**ačiatkom apríla  
opiľuj suché konáre,  
budú dobré lekváre.



**1** Povedz, ako nazývame takéto  
výroky o počasí, prírode a úrode.

**2** Vysvetli ich  
význam.

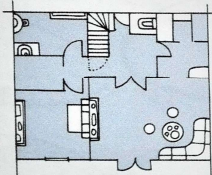
**Piatok 19.3.2021**

**SLOVENSKÝ JAZYK** – Inzerát.

**1** Doplň do textov *inzerátov* pomenovania obrázkov.



Vymením trojizbový \_\_\_\_\_  
za dvojizbový.  
**ZNAČKA:** Rozdiel doplatiť  
podľa dohody.



Predám takmer  
nový trekingový

\_\_\_\_\_

značky Makaj.



Kúpim porcelánovú

\_\_\_\_\_.

**ZNAČKA:** Aj poškodenú.



**2**

Napiš *inzerát*, v ktorom ponúkneš na predaj *knihu o liečivých bylínkach*.



---

---

## Veľkonočné sviatky a tradície

**1** Prezri si obrázok. Porozprávaj, čo sa na ňom deje.



Stará mama rozpráva: „Na Veľkonočný pondelok chodievali kúpači, ktorí pooblievali a vyšibali všetky dievčatá a ženy v dome. Chceli, aby boli celý rok zdravé a krásne. Tie ich za to obdarovali **kraslicami** – vyfúknutými ozdobenými vajčkami.“

**Veľkonočné sviatky** sú sviatkom jari. Pre niektorých ľudí znamenajú najvýznamnejší cirkevný sviatok, ktorému predchádza štyridsaťdňové pôstne obdobie. Veľkonočné sviatky sa začínajú **Kvetnou nedeľou**, pokračujú **Zeleným štvrtkom**, **Veľkým piatkom**, **Bielou sobotou**, **Veľkonočnou nedeľou** a končia sa **Veľkonočným pondelkom**.

**2** Povedz, aké pomenovania majú dni počas veľkonočných sviatkov.

**3** Porozmýšľaj a povedz, aké zmeny nastávajú v obci počas obdobia pred veľkonočnými sviatkami.

**4** Porozprávaj spolužiakom, ako slávite veľkonočné sviatky v tvojej rodine. Zisti, ako slávili veľkonočné sviatky v čase detstva tvoji starí rodičia. Povedz spolužiakom, čo z ich rozprávania ťa najviac zaujalo.

🕒 **Vieš, že** v niektorých regiónoch Slovenska je tradíciou pliesť korbáče z vŕbových prútov? Najdlhší korbáč na Slovensku uplietli v Ilave. Meral 106 m 20 cm.



**50** 🖥️ **Vyhľadaj** na internete, v knihách alebo v encyklopédiách informácie o slávení Veľkej noci v minulosti. Ktoré zvyky dodržiavali obyvatelia vášho regiónu? Ktoré z nich dodržiavate dodnes?

✂️ **Zisti**, akými spôsobmi sa zdobia vajčka. **Vyrob** si kraslice niektorou technikou zdobenia.

🥚 **Počas vychádzky pozorujte**, ako vyzerá vaša obec v období Veľkej noci.

Napiš slová, ktoré súvisia s pojmom Veľká noc.