



štátny znak


😊 13. Pracovný list z geografie pre 7. ročník 😊




štátna vlajka

1. Prepíš si poznámky do zošita a nauč sa to. Prečítaj si v učebnici stranu 62., 63., 64. a nauč sa to.

- podčiarknuté slová napíš farbeným perom



Západná Európa - Francúzsko



Francúzsko je prímorský štát. Ide o krajinu, ktorá patrí k nevyspelejším štátom sveta. Je to štát, ktorý navštívi ročne najviac turistov na svete.

Najvyššie Pohoria: Alpy, Pyreneje, Centrálny masív



Nížiny: Francúzska nížina a Severofrancúzska nížina

Najväčšie rieky vo Francúzku sú: Loire, Rýn a Seina. Hlavným mestom Francúzska je Paríž. Francúzsko leží v miernom podnebnom pásme. Pestuje sa tu najmä vinič a jablká. Francúzsko je svetová obilnica. To znamená, že sa tu pestuje najviac obilia na svete.

Základom vyspelosti krajiny je priemysel. Vyniká výroba áut (Renault, Peugeot, Citroën), elektrotechnický a chemický priemysel. Vyrábajú sa tu lietadlá (Airbus), vlakové súpravy (TGV). Skoro celá produkcia elektrickej energie je prostredníctvom jadrových elektrární. (3/4)

Významné mestá sú: Marseille, Lyon, Paríž

Významné pamiatky: Eiffelova veža, chrám Notre Dame, múzeum Louvre, Tour de France ...

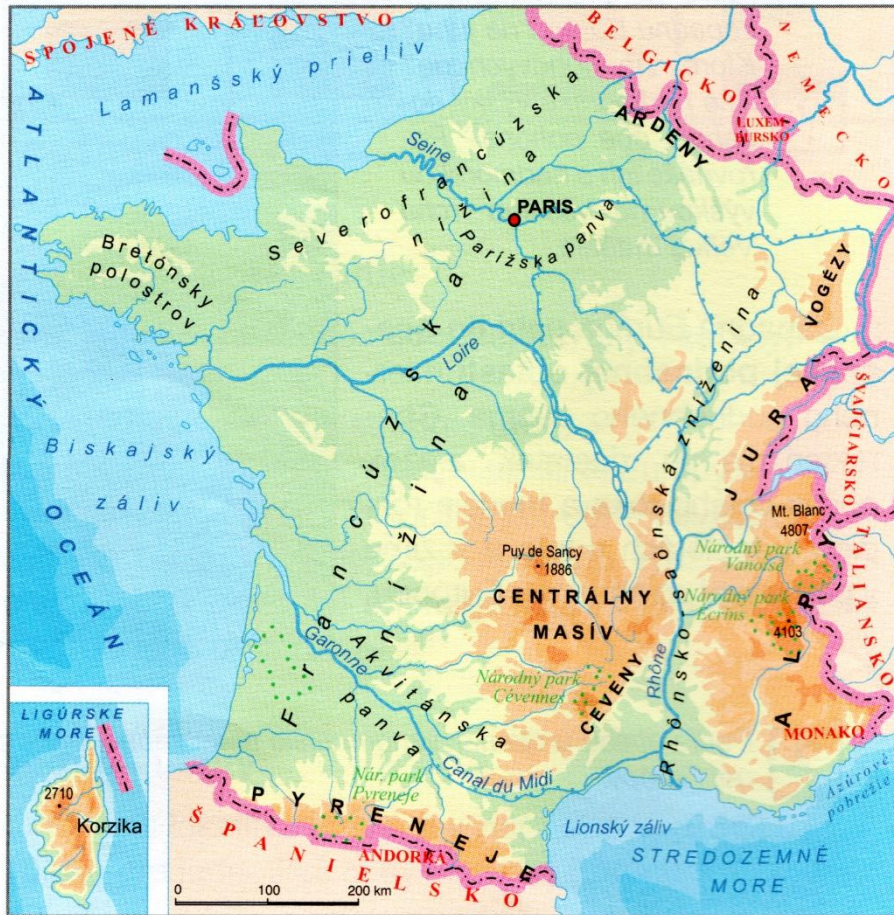
Vo Francúzsku nájdeme veľké množstvo historických a kultúrnych pamiatok. Krajina má veľké zastúpenie pamiatok v UNSECO. Francúzsko je republika. Hovorí sa tu po francúzsky.

2. Napíš do štvorčeka či je tvrdenie pravdivé P alebo nepravdivé N. Najprv si však prečítaj poznámky. Odpovede nájdeš v texte v prvej úlohe. Ak bude niečo nesprávne, tak to oprav vedľa toho tak, aby to bola pravda.

- Medzi najvyššie pohoria patria Pyreneje.
- Francúzsko je známe výrobou lodných súprav.
- Hlavným mestom Francúzska je Marseille.
- Medzi najväčšie rieky patrí: Seina, Elbe a Rýn.
- Francúzsko je vo vnútrozemí Európy.
- Francúzsko je monarchia.
- Francúzska energetika je postavená prevažne na výrobe elektriny z vodných elektrární.
- Francúzsko je svetoznáme výrobou kvalitného vína.



3. Toto je mapa Francúzskej republiky. Vypracuj otázky pod mapou.



- Vypíš všetky rieky, ktoré na mape vidíš:
.....
- Vypíš názvy štátov, s ktorými susedí:
.....
- Vypíš vodné plochy, ktoré obmývajú Francúzsko:
.....
- Vypíš všetky národné parky (NP), ktoré vidíš na mape:
.....

4. Nájdi na internete logo Peugeotu aj Citroënu a prekresli ho.

--	--