



WOJEWÓDZKI KONKURS HISTORYCZNY
„MÓJ REGION – MOJA DUMA,
MOJE MIASTO – MOJA DUMA”



INSTYTUT
PAMIĘCI
NARODOWEJ



KURATORIUM OŚWIATY
W KRAKOWIE



Po ośmiu latach organizacji konkursu „Mój Region – Moja Duma, Moje Miasto – Moja Duma”, muszę przyznać, że to wielkie dzieło, które przynosi ogromne owoce. Kiedy rozpoczynaliśmy nasz konkurs mówiłem, że musi on się rozrastać, ponieważ nie ma szans, abyśmy zbudowali nową Polskę i silną Sądecczyznę jeśli nie będziemy pamiętać o historii i ludziach, którzy ją tworzyli.

Dzisiaj, z pełnym przekonaniem stwierdzam, że Nasza Ukochana Sądecczyzna będzie się rozwijać, ponieważ młode pokolenie podąża właściwą drogą, opartą na mądrości i dziedzictwie naszych ojców.

Dziękuję wszystkim nauczycielom, opiekunom naukowym, którzy przygotowują uczniów do konkursu. Dzięki Wam, młodzi ludzie wracają do korzeni a to pozwala im nie zatracać poczucia własnej tożsamości oraz budować i wzmacniać tożsamość regionalną.

Konkurs sprawia, że nie tylko uczestnicy poszerzają swoją wiedzę. Tematyczne prace konkursowe, przygotowywane przez uczestników to skarbnica wiedzy o ważnych wydarzeniach, postaciach z ich miejscowości. Niejednokrotnie spotykamy się tam z historią, której nie znajdziemy w żadnych książkach.

Aby historia małych miejscowości naszego regionu i ich wielcy bohaterowie, niejednokrotnie zapomniani, znaleźli się na łamach książek, od tej edycji konkursu, wprowadzamy nowy element, którym jest projekt zatytułowany: *Historyczne Wioski i Miasta Sądecczyzny*. Uczestnicy konkursu będą przygotowywać prace, w której udokumentują fakt, że ich rodzinna miejscowość, powinna być zaznaczona na mapie regionu jako *Wioska Historyczna* lub *Miasto Historyczne*. Każdego roku podczas finału będziemy nagradzać najlepsze prace, jednocześnie umieszczając daną miejscowość na multimedialnej mapie *Historycznych Wiosek i Miast Sądecczyzny*.



Prezes Społeczno-Kulturalnego Towarzystwa „Sądeczanin”

Zygmunt Berdychowski

Zygmunt Berdychowski



„Pozostańcie wierni doświadczeniu pokoleń, które żyły na tej ziemi, z Bogiem w sercu i z modlitwą na ustach. (.....) Zachowajcie jak skarb największy to, co było źródłem duchowej siły naszych ojców”.

Święty Jan Paweł II



WOJEWÓDZKI KONKURS HISTORYCZNY
„MÓJ REGION – MOJA DUMA,
MOJE MIASTO – MOJA DUMA”

ORGANIZATORZY:



INSTYTUT
PAMIĘCI
NARODOWEJ



PATRONAT HONOROWY:

Prezes Instytutu Pamięci Narodowej

PARTNERZY:



REGULAMIN

X edycji

Wojewódzkiego Konkursu Historycznego

„Mój Region – Moja Duma, Moje Miasto – Moja Duma”

w roku szkolnym akademickim 2022/2023

§ 1

POSTANOWIENIA OGÓLNE

1. W roku szkolnym/akademickim 2022/2023 Fundacja Sądecka, Społeczno-Kulturalne Towarzystwo Sądeczanin, I Liceum Ogólnokształcące z Oddziałami Dwujęzycznymi im. Jana Długosza w Nowym Sączu organizują dla uczniów klas IV-VIII szkół podstawowych, uczniów szkół ponadpodstawowych/ponadgimnazjalnych oraz studentów i osób dorosłych Wojewódzki Konkurs Historyczny „Mój Region – Moja Duma, Moje Miasto – Moja Duma”, zwany dalej konkursem.

2. Celem konkursu jest:

- pogłębienie wiedzy uczestników o historii Sądeczczyzny;
- zainteresowanie uczestników historią;
- ukierunkowanie wartości patriotycznych przez wzgląd na bogatą historię naszego regionu;
- dbanie o duchowe i materialne dziedzictwo regionu;
- ukazanie bogatej tradycji naszego regionu;
- uczczenie pamięci o osobach wybitnych i zasłużonych dla naszego regionu;
- wzbudzenie chęci poznawania historii naszego regionu;
- rozwijanie umiejętności wyszukiwania informacji pochodzących z różnych źródeł i właściwego ich wykorzystania;
- rozwijanie zainteresowań historycznych uczestników.

3. Eliminacje konkursowe:

a) na pierwszym etapie konkursu składają się z dwóch części:

- **część 1** polega na napisaniu przez Uczestników konkursu pracy na jeden z wybranych tematów (załącznik nr 5) i przesłaniu jej do Wojewódzkiej Komisji Konkursowej w terminie wskazanym w harmonogramie,
- **część 2** polega na napisaniu pracy konkursowej na zasadach wskazanych przez organizatorów.

b) na trzecim etapie Uczestnicy rozwiązują pisemny test oraz odpowiadają na pytania w części ustnej.

4. Konkurs jest konkursem dwustopniowym:

- I stopień – etap szkolny;
- II stopień – etap wojewódzki (finałowy).

5. Konkurs jest przeprowadzany w 3 kategoriach wiekowych:

- szkoła podstawowa (klasy IV-VI); *(skrót: SP)*
- szkoła podstawowa (klasy VII-VIII); *(skrót: G)*
- szkoła ponadpodstawowa/ponadgimnazjalna, osoby studenci i dorośle. *(skrót: PG, D)*

6. Kolejne etapy konkursu odbywają się w terminach wskazanych w harmonogramie stanowiącym załącznik nr 1 do niniejszego regulaminu.

7. Zakres wiedzy i umiejętności wymaganych na poszczególnych etapach konkursu oraz wykaz literatury obowiązującej uczestników i jednocześnie stanowiącej pomoc dla nauczycieli określa załącznik nr 3 do niniejszego regulaminu.

8. Zestawy zadań oraz schematy oceniania do wszystkich etapów konkursu oraz wszystkich kategorii wiekowych opracowywane są przez autorów i podlegają ocenie recenzentów.

9. Autorzy i recenzenci nie mogą przygotowywać uczestników do konkursu pod rygorem skreślenia tych uczestników z listy.

10. Osoby mające w toku organizowania i przeprowadzania konkursu dostęp do zadań konkursowych i schematów oceniania zadań są zobowiązane do dochowania tajemnicy i nieujawniania ich treści.

11. Po każdym etapie następuje weryfikacja testów przez Wojewódzką Komisję Konkursową.

12. Listy osób zakwalifikowanych do kolejnych etapów konkursu będą przekazywane za pośrednictwem poczty elektronicznej oraz profilu na Facebooku „Mój Region – Moja Duma – okiem młodych ludzi”.

13. Informacje dotyczące wyników punktowych uczestników w etapie:

a) szkolnym i rejonowym są przekazywane uczestnikom lub ich rodzicom/prawnym opiekunom przez przewodniczącego komisji szkolnej oraz rejonowej;

b) wojewódzkim (finałowym) są przekazywane przez Sekretarza Wojewódzkiej Komisji Konkursowej bezpośrednio po zakończeniu etapu wojewódzkiego (finałowego), bądź w późniejszym terminie za pośrednictwem oficjalnego zapytania na maila konkursu.

14. Warunkiem przystąpienia do konkursu jest zgłoszenie uczestnika przez dyrektora szkoły bądź opiekuna naukowego lub osobiście (w przypadku osób niepełnoletnich przez rodzica/opiekuna prawnego) za pośrednictwem formularza stanowiącego załącznik nr 2 do niniejszego regulaminu.

15. Przystąpienie do konkursu jest dobrowolne i jednoznaczne z akceptacją regulaminu przez uczestnika, jego rodziców/prawnych opiekunów oraz opiekuna naukowego.

§ 2

ZASADY UCZESTNICTWA W KONKURSIE

1. Do konkursu przystąpić mogą uczniowie szkół podstawowych (klasy IV-VIII), uczniowie szkół ponadpodstawowych/ponadgimnazjalnych oraz osoby dorosłe z terenu województwa małopolskiego.

2. Do etapu szkolnego konkursu ma prawo przystąpić każdy uczeń bądź osoba dorosła.

3. Uczestnik konkursu musi przesłać do organizatorów wypełniony formularz zgłoszeniowy.

4. Uczestnik zobowiązany jest do zapoznania się i przestrzegania postanowień niniejszego regulaminu, komunikatów oraz instrukcji, która jest integralną częścią arkusza konkursowego.

5. Organizatorzy konkursu umożliwiają udział w nim uczestnikom niepełnosprawnym, w warunkach i formach dostosowanych do ich potrzeb, na podstawie przedłożonego orzeczenia o potrzebie kształcenia specjalnego, oraz uczestnikom przewlekle chorym na podstawie zaświadczenia lekarskiego.

6. Dostosowanie, o którym mowa w punkcie 6 nie obowiązuje treści zadań i zasad oceniania. Dostosowanie to dotyczy kwestii takich jak np.: wydłużenie czasu trwania, testu, przesłanie arkusza z powiększoną czcionką itp.

7. Uczestnik przekazuje Wojewódzkiej Komisji Konkursowej informację o konieczności dostosowania warunków i form przeprowadzenia konkursu co najmniej 7 dni przed etapem szkolnym konkursu.

8. Wprowadzone dostosowania dla uczestników, nie mogą naruszać zasad samodzielnej pracy uczestnika.

9. W przypadku zdalnej formy przeprowadzania konkursu, w pomieszczeniu, w którym uczestnik rozwiązuje test nie może przebywać żadna osoba.

10. W czasie trwania konkursu uczestnicy nie mogą opuszczać sali. Przewodniczący może zezwolić, w szczególnie uzasadnionej sytuacji, na opuszczenie sali po zapewnieniu warunków uniemożliwiających kontaktowanie się z innymi osobami.

11. Członkowie Komisji Konkursowych nie mogą udzielać uczestnikom żadnych wyjaśnień związanych z treścią zadań konkursowych ani komentować zadań, podczas trwania eliminacji.

12. Członkowie Komisji Konkursowych zapoznają uczestników z instrukcją rozwiązania testów dzień przed konkursem.

13. Podczas każdego z etapów konkursu zabrania się korzystania z urządzeń mobilnych z wyjątkiem tych niezbędnych do organizacji konkursu.

14. W przypadku stwierdzenia niesamodzielnosci pracy przez uczestnika (na wszystkich etapach konkursu) następuje natychmiastowa dyskwalifikacja uczestnika.

15. Członkowie Wojewódzkiej Komisji Konkursowej mogą uczestniczyć w roli obserwatorów w każdym etapie konkursu.

§ 3

KRYTERIA KWALIFIKOWANIA UCZESTNIKÓW DO KOLEJNYCH ETAPÓW KONKURSU, WARUNKI UZYSKIWANIA TYTUŁU FINALISTY LUB LAUREATA KONKURSU ORAZ WYRÓŻNIENIA PO PIERWSZYM ETAPIE KONKURSU

1. Po każdym etapie konkursu, Wojewódzka Komisja Konkursowa dokonuje kwalifikacji najlepszych uczestników z każdej kategorii wiekowej do kolejnego etapu.

2. Próg punktowy dający awans do kolejnego etapu konkursu jest ustalany na podstawie wszystkich wyników uzyskanych w poszczególnych etapach.

3. Z wszystkich uczestników zakwalifikowanych do drugiego etapu zostanie wyróżnionych 6 uczestników z najwyższą punktacją po pierwszym etapie, otrzymają oni nagrody rzeczowe.

4. Tytuł laureata konkursu otrzymuje 10 uczestników z każdej grupy wiekowej, z najlepszym wynikiem spośród wszystkich uczestników etapu wojewódzkiego (finałowego). Jednak z zastrzeżeniem, gdy liczba uczestników etapu finałowego wynosi mniej niż 10 osób minimalny próg zdobycia tytułu laureata to uzyskanie co najmniej 85% punktów możliwych do zdobycia w etapie wojewódzkim.

5. Tytuł finalisty otrzymuje każdy uczestnik zakwalifikowany do etapu wojewódzkiego konkursu.

6. Laureaci konkursu otrzymują również zaświadczenia o uzyskaniu tytułu finalisty.

§ 4

KOMISJE KONKURSOWE

1. Wojewódzka Komisja Konkursowa, powołana przez organizatorów przygotowuje i przeprowadza konkurs.

2. Wojewódzka Komisja Konkursowa w szczególności:

a) dokonuje weryfikacji prac po każdym etapie;

b) dokonuje kwalifikacji uczestników do etapu wojewódzkiego;

c) przeprowadza eliminacje etapu wojewódzkiego;

d) wyłania laureatów konkursu.

3. Pracami Wojewódzkiej Komisji Konkursowej kieruje przewodniczący.

4. W skład podkomisji Wojewódzkiej Komisji Konkursowej na etapie wojewódzkim wchodzi opiekunowie naukowcy finalistów.

5. W przypadku zdalnej formy przeprowadzenia konkursu obowiązki Rejonowej Komisji Konkursowej przejmują Wojewódzka Komisja Konkursowa.

§ 5

ARKUSZ KONKURSOWY

1. Arkusz konkursowy na każdym etapie zawiera instrukcję, z którą każdy uczestnik konkursu musi się zapoznać oraz jej bezwzględnie przestrzegać.

2. **Zadania konkursowe będą układane na podstawie lektur.**

3. Ilość zadań konkursowych do każdej kategorii wiekowej wynosi **20 zadań**.

4. W arkuszu pytań do części ustnej etapu finałowego, zostaną umieszczone źródła pytań (tytuł, autor). **Prawidłowe odpowiedzi znajdują się wyłącznie w pozycjach wskazanych przez autorów pod każdym pytaniem.**

§ 6

WGLĄD DO PRAC ORAZ TRYB SKŁADANIA I ROZPATRYWANIA ZASTRZEŻEŃ

1. Uczestnicy (pełnoletni), ich rodzice oraz opiekunowie naukowcy po okazaniu dowodu tożsamości, po każdym etapie konkursu mają prawo wglądu do ocenionych prac, w terminach określonych przez Wojewódzką Komisję Konkursową w harmonogramie konkursu.

2. O miejscu i dokładnym czasie udostępnienia prac do wglądu decyduje Wojewódzka Komisja Konkursowa.

3. Informacja o miejscu i dokładnym czasie udostępniania prac do wglądu przez Wojewódzką Komisję Konkursową uregulowana jest w harmonogramie konkursu.

4. Prace uczestników są udostępniane do wglądu w obecności członka Wojewódzkiej Komisji Konkursowej, bądź przedstawiciela organizatorów na czas nie dłuższy niż 15 minut. Dopuszcza się możliwość sfotografowania pracy.

5. W przypadku zdalnej formy przeprowadzenia konkursu o trybie i warunkach wglądu do prac decyduje Wojewódzka Komisja Konkursowa w porozumieniu z organizatorami.

6. W przypadku wystąpienia sytuacji o której mowa w punkcie 5, zostają wydane odpowiednie komunikaty i instrukcje.

7. Zastrzeżenie dotyczące oceny pracy po każdym etapie konkursu mogą wnieść wyłącznie rodzice/prawni opiekunowie uczestnika, bądź (w przypadku osób dorosłych) uczestnik konkursu. Po uzyskaniu odpowiedniej zgody od rodziców uczestnika, zastrzeżenie może wnieść także opiekun naukowy.

8. Zastrzeżenie musi zawierać: imię i nazwisko osoby, od której pochodzi, adres (kod pocztowy, miejscowość, data, ulica, numer domu), wskazanie zadanie, którego ocena jest kwestionowana wraz z krótkim uzasadnieniem. Zastrzeżenia nieposiadające tych informacji pozostaną bez rozpatrzenia.

9. Zastrzeżenia można wnieść środkami komunikacji elektronicznej.

10. Zastrzeżenia po wszystkich etapach konkursu składa się do Wojewódzkiej Komisji Konkursowej.

11. Zastrzeżenia wnosi się wyłącznie w terminach określonych w harmonogramie konkursu.

12. Zastrzeżenia są rozpatrywane w terminach określonych w harmonogramie konkursu.
13. Zastrzeżeniu nie podlegają, z powodu braku możliwości weryfikacji, odpowiedzi udzielone przez uczestników podczas części ustanej etapu wojewódzkiego.
14. Zastrzeżenia wniesione z naruszeniem postanowień niniejszego paragrafu nie będą rozpatrywane.
15. **Rozstrzygnięcia zastrzeżeń są ostateczne na każdym etapie konkursu.**
16. **Odpowiedzi na zastrzeżenia są udzielane w terminie 14 dni od dnia rozpatrzenia.**

§ 7

ZGŁOSZENIE DO KONKURSU

1. Zgłoszenia do konkursu należy dokonać poprzez wypełnienie formularza zgłoszeniowego (załącznik nr 2 do niniejszego regulaminu).
2. Wypełniony formularz należy wydrukować, uzupełnić o podpisy uprawnionych osób, po czym przesłać e-mailem na adres: **sekretariat@sadeczanin.info**
3. Zgłoszenia należy dokonać w terminie określonym przez harmonogram konkursu.

§ 8

ORGANIZACJA ETAPU SZKOLNEGO

1. Etap szkolny konkursu odbywa się w dniu i o godzinie wskazanej w harmonogramie konkursu.
2. Przed pierwszym etapem konkursu zostaje przeprowadzona próba techniczna, polegająca na rozwiązaniu przykładowego testu online przez uczestników. Po zakończeniu próby technicznej uczestnicy mogą zgłaszać ewentualne usterki do organizatorów itp.
3. Etap pierwszy ze względów organizacyjnych może odbywać się o różnych godzinach dla poszczególnych kategorii wiekowych.

§ 9

ORGANIZACJA ETAPU WOJEWÓDZKIEGO

1. Uczestnicy zakwalifikowani do etapu wojewódzkiego przystępują do niego w miejscu wskazanym przez organizatora w odrębnym komunikacie, który zostanie przekazany najpóźniej na 10 dni przed terminem etapu.
2. Organizacja etapu wojewódzkiego i nadzór nad jego przebiegiem spoczywa na Wojewódzkiej Komisji Konkursowej.
3. **Wojewódzka Komisja Konkursowa w szczególności:**
 - a) organizuje i przeprowadza etap wojewódzki w warunkach zapewniających samodzielną pracę uczestników;
 - b) organizuje ocenianie prac po etapie wojewódzkim;
 - c) **powołuje zespoły nadzorujące na etapie wojewódzkim.**

4. Wojewódzka Komisja Konkursowa przygotowuje zaświadczenia finalistów i laureatów konkursu.
5. W przypadku braku możliwości organizacji etapu wojewódzkiego, spowodowanej przez obostrzenia epidemiczne etap wojewódzki odbywa się na zasadnych określonych przez organizatorów w odpowiednim komunikacie.
6. W przypadku zdalnej formy przeprowadzenia konkursu, organizatorzy przeprowadzają etap wojewódzki z koordynatorami konkursu.
7. W przypadku zdalnej formy przeprowadzenia konkursu, organizatorzy określają obowiązki koordynatorów konkursu w odrębnym komunikacie.
8. W przypadku zdalnej formy przeprowadzenia konkursu zostaje przeprowadzona próba techniczna przed etapem wojewódzkim konkursu, polegająca na rozwiązaniu przykładowego testu online przez uczestników. Po zakończeniu próby technicznej uczestnicy mogą zgłaszać ewentualne usterki, zastrzeżenia do organizatorów itp.

§ 10

NAGRODY

1. **Dla uczestników:** stypendia z Funduszu Stypendialnego im. Braci Potoczków (3 laureatów z każdej grupy wiekowej) oraz nagrody rzeczowe ufundowane przez Instytut Pamięi Narodowej
2. **Dla nauczycieli – opiekunów naukowych,** których uczniowie otrzymają tytuł laureata konkursu zostaną przyznane honoraria.

§ 19

PRZEPISY SZCZEGÓŁOWE I POSTANOWIENIA KOŃCOWE

1. W sprawach nieuregulowanych niniejszym regulaminem rozstrzyga Wojewódzka Komisja Konkursowa oraz przedstawiciele organizatorów.
2. Organizatorzy zastrzegają sobie prawo do zmiany niektórych zapisów niniejszego regulaminu w związku z obowiązującymi obostrzeniami związanymi z epidemią wirusa SARS-CoV-2 podczas trwania konkursu.
3. **Dodatkowe informacje o konkursie można uzyskać:**
 - pod adresem e-mail: **sekretariat@sadeczanin.info**
 - pod numerami telefonu: **797988115, 18 475 15 20**

Załączniki:

- nr 1:** harmonogram konkursu
- nr 2:** formularz zgłoszeniowy (załącznik znajduje się w odrębnym pliku)
- nr 3:** zakres tematyczny i literatura
- nr 4:** wzór zastrzeżenia
- nr 5:** tematy prac konkursowych
- nr 6:** wzór zaświadczenia zdobycia tytułu finalisty konkursu
- nr 7:** wzór zaświadczenia zdobycia tytułu laureata konkursu

Załącznik nr 1
Do Regulaminu Wojewódzkiego Konkursu Historycznego
„Mój Region - Moja Duma, Moje Miasto – Moja Duma”
w roku szkolnym 2022/2023

HARMONOGRAM KONKURSU *

Lp.	Zadanie	Termin
1.	Zgłoszenie do Konkursu	do 30 listopada 2022 r.
2.1	Przekazanie do Wojewódzkiej Komisji Konkursowej prac konkursowych uczestników.	do 4 grudnia 2022 r.
2.2	Przeprowadzenie etapu szkolnego konkursu	13 grudnia 2022 r., godz. 9:00 (SP), 11:00 (G), 13:00 (PG).
3.	Składanie zastrzeżeń	do 14 grudnia 2022 r.
4.	Weryfikacja prac i rozpatrywanie zastrzeżeń przez Wojewódzką Komisję Konkursową	15 grudnia 2022 r.
5.	Opublikowanie listy uczestników zakwalifikowanych do etapu wojewódzkiego oraz listy wyróżnionych po pierwszym etapie (na Facebooku „Mój Region – Moja Duma – okiem młodych ludzi”)	16 grudnia 2022 r.
14.	Przeprowadzenie etapu wojewódzkiego konkursu	20 kwietnia 2023 r., godz. 11:00
15.	Uroczysta gala podsumowująca konkurs	20 kwietnia 2023 r. (godzina zostanie podana w odrębnym komunikacie)

* Organizatorzy zastrzegają sobie prawo do zmiany terminów w harmonogramie. Ewentualne zmiany wprowadzone w harmonogramie są przekazywane uczestnikom drogą mailową oraz za pomocą profilu na Facebooku „Mój Region – Moja Duma – okiem młodych ludzi”

§ 1

ZAKRES TEMATYCZNY DLA UCZESTNIKÓW

- Dzieje miasta i regionu do rozbiorów Rzeczypospolitej:
 - pradzieje regionu;
 - lokacja miast regionu: Starego Sącza i Nowego Sącza;
 - rola Sądeckizny w gospodarce Polski (szlak węgierski), centrum administracyjne, rozwój podśadeckich miejscowości i ośrodków miejskich;
 - czasy tzw. Sądeckiego Złotego Wieku.
- Sądeckizna w czasach Autonomii Galicyjskiej:
 - samorząd;
 - skarbowość;
 - życie polityczne (organizacje polityczne i udział ich członków w funkcjonowaniu Galicji);
 - politycy sądecki na tle funkcjonowania Austro-Węgier;
 - ruch niepodległościowy na Sądeckiznie (powstawanie i działalność organizacji niepodległościowych, osoby związane z ruchem niepodległościowym);
 - powstanie linii kolejowej;
 - życie kulturalne;
 - szkolnictwo;
 - życie religijne;
 - sport.
- Sądeckizna w czasie I wojny światowej.
- Sądeckizna w dwudziestoleci międzywojennym:
 - tworzenie się władz miejskich w głównych ośrodkach regionu;
 - zasady funkcjonowania samorządu terytorialnego na terenie Sądeckizny;
 - życie gospodarcze regionu;
 - mniejszości narodowe na Sądeckiznie;
 - szkolnictwo;
 - życie kulturalne;
 - życie religijne;
 - sport.
- Sądeckizna podczas II wojny światowej:
 - kampania wrześniowa na Sądeckiznie;
 - polityka hitlerowska wobec regionu i ludności go zamieszkującej;
 - życie gospodarcze pod okupacją;
 - działalność konspiracyjna na Sądeckiznie;
 - działalność partyzancka w Beskidzie Sadeckim;
 - kultura regionu w czasie okupacji;
 - stosunki wyznaniowe i demograficzne;
 - sadeccy generałowie i kurierzy;
 - losy Sądeckich Żydów.
- Sądeckizna po II wojnie światowej:

- Sądeczczyzna po wyzwoleniu;
- wprowadzenie nowej administracji;
- zmiany kulturalno-społeczne po II wojnie światowej;
- życie religijne w okresie komunistycznym;
- funkcjonowanie podziemia antykomunistycznego;
- działalność Solidarności na terenie Sądeczczyzny;
- przemiany polityczno – społeczne po 1989 roku;
- Sądeczanie w życiu politycznym III Rzeczypospolitej;
- samorząd lokalny na Sądeczczyźnie.
- Ważne wydarzenia dla lokalnej społeczności Sądeczczyzny.
- Historia, kultura wybranych miejscowości Sądeczczyzny.
- Historia gmin powiatu nowosądeckiego.
- Atrakcje turystyczne, szlaki turystyczne naszego regionu.
- Postacie zasłużone dla regionu.
- Honorowi Obywatele miasta Nowego Sącza i miast powiatu nowosądeckiego.
- Historia sądeckiego sportu.
- Sądeckie muzea.
- Grupy etniczne i etnograficzne Sądeczczyzny.

§ 2

LITERATURA DLA UCZESTNIKÓW NA POSZCZEGÓLNYCH ETAPACH KONKURSU

Szkoła Podstawowa (klasy IV – VI)

Etap szkolny:

- **Elementarz Historyczny Sądectanina**, oprac. J. Bulzak, Ł. Połomski, S. Rękas, S. Wróblewski, Nowy Sącz 2020, str. 93-116 (lata 1914-1939)

Etap rejonowy:

literatura wymagana do etapu szkolnego oraz:

- **Elementarz Historyczny Sądectanina**, oprac. J. Bulzak, Ł. Połomski, S. Rękas, S. Wróblewski, Nowy Sącz 2020, str. 8-93
- **NOWY SĄCZ - przewodnik śladami przeszłości**, L. Migrała, Nowy Sącz 2019, str. 5-53
- **Franciszek Gągor (1951-2010) – Pierwszy żołnierz RP**, J. Leśniak w: *101 Sądectan*, str. 310-315

Etap wojewódzki:

literatura wymagana do etapu szkolnego i rejonowego oraz:

- **Elementarz Historyczny Sądectanina**, oprac. J. Bulzak, Ł. Połomski, S. Rękas, S. Wróblewski, Nowy Sącz 2020, str. 116-160
- **NOWY SĄCZ - przewodnik śladami przeszłości**, L. Migrała, Nowy Sącz 2019, str. 53-157

Szkoła Podstawowa (klasy VII – VII)

Etap szkolny:

- **Elementarz Historyczny Sądectanina**, oprac. J. Bulzak, Ł. Połomski, S. Rękas, S. Wróblewski, Nowy Sącz 2020, str. 83-116 (lata 1905-1939)

Etap rejonowy:

literatura wymagana do etapu szkolnego oraz:

- **NOWY SĄCZ - przewodnik śladami przeszłości**, L. Migrała, Nowy Sącz 2019, str. 5-53
- **Elementarz Historyczny Sądectanina**, oprac. J. Bulzak, Ł. Połomski, S. Rękas, S. Wróblewski, Nowy Sącz 2020, str. 8-83
- **„Bo ni z tego ni z owego mamy Polskę na pierwszego”**, S. Rękas w: *Sądectanin HISTORIA nr 1(1)*, listopad 2018, str. 7-20
- **Hasła w Encyklopedii Sądectkiej i Nowej Encyklopedii Sądectkiej**: Galicja, „Górale Łąccy”, Grody i Grodziska, Kapliczki Sądectkie, Karpacki Oddział Straży Granicznej, Bitwa Marcinkowicka, Kasztelanowe Sądectcy

Etap wojewódzki:

literatura wymagana do etapu szkolnego i rejonowego oraz:

- **Elementarz Historyczny Sądectanina**, oprac. J. Bulzak, Ł. Połomski, S. Rękas, S. Wróblewski, Nowy Sącz 2020, str. 116-160
- **Historia Nowego Sącza**, L. Migrała, Nowy Sącz 2017, rozdz. *W nowożytności*, str. 46-82 oraz str. 431-432

- **JAN PAWEŁ II na ZIEMII SĄDECKIEJ**, P. Gryźlak w: *Rocznik Sądecki T. 28, Nowy Sącz 2000*, str. 9-33

**Szkoła Ponadpodstawowa/Ponadgimnazjalna,
Dorośli**

Etap szkolny:

- **Elementarz Historyczny Sądeczanina**, oprac. J. Bulzak, Ł. Połomski, S. Rękas, S. Wróblewski, Nowy Sącz 2020, str. 83-121 (lata 1905-1945)

Etap rejonowy:

literatura wymagana do etapu szkolnego oraz:

- **Historia Nowego Sącza**, L. Migrała, Nowy Sącz 2017, rozdz. *W latach II wojny światowej*, str. 249-314
- **Elementarz Historyczny Sądeczanina**, oprac. J. Bulzak, Ł. Połomski, S. Rękas, S. Wróblewski, Nowy Sącz 2020, str. 8-83
- **Powiat nowosądecki**, M. Michałowicz-Kubal, G. Kubal, Krosno 2000, str. 3-20
- **Biogramy osób znajdujące się w 101 Sądeczan**: Zawisza Czarny. Rycerz spod Grunwaldu, Stanisław Małachowski. Akuszer majowej jutrzeńki, Roman Sichrawa. Sokół niezłomny

Etap wojewódzki:

literatura wymagana do etapu szkolnego i rejonowego oraz:

- **Druga młodość Starego Sącza 1990-2010**, J. Leśniak, Stary Sącz 2010, str. 3-27
- **Elementarz Historyczny Sądeczanina**, oprac. J. Bulzak, Ł. Połomski, S. Rękas, S. Wróblewski, Nowy Sącz 2020, str. 121-160
- **Nowosądecki sen o szpadzie**, Jerzy Giza w: *W mieście Nowym Sączu, na Długosza przy Plantach... I Gimnazjum i Liceum im. Jana Długosza w Nowym Sączu 1818 – 2018*, pod red. J. M. Bulzaka, Nowy Sącz 2018, str. 319 – 367

Załącznik nr 4

do Regulaminu Wojewódzkiego Konkursu Historycznego
„Mój Region – Moja Duma, Moje Miasto – Moja Duma”
w roku szkolnym/akademickim 2022/2023

ZASTRZEŻENIE

.....

(imię i nazwisko osoby wnoszącej
zastrzeżenie)

.....

.....

(adres do korespondencji)

.....

(adres elektroniczny)

**do Wojewódzkiej Komisji Konkursowej
po etapie:**

.....

(wpisać odpowiednio: szkolnym/ rejonowym/ wojewódzkim)

**Wojewódzkiego Konkursu Historycznego
„Mój Region – Moja Duma, Moje Miasto – Moja Duma”
w roku szkolnym/akademickim 2020/2021**

Zwracam się z uprzejmą prośbą o ponowne sprawdzenie w mojej pracy*/pracy mojego dziecka/ucznia*:

.....
.....
.....

(imię i nazwisko, nazwa szkoły)**
następujących zadań:

.....
(wpisać numery zadań)
uzasadnienie:

.....
.....
.....
.....

.....
(podpis)

Załącznik nr 5

do Regulaminu Wojewódzkiego Konkursu Historycznego
„Mój Region – Moja Duma, Moje Miasto – Moja Duma”
w roku szkolnym/akademickim 2022/2023

§ 1

DOPUSZCZALNE FORMY WYKONANIA PRACY

1. Pracę konkursową należy wykonać na jeden z tematów wskazanych w §2 niniejszego załącznika do Regulaminu Wojewódzkiego Konkursu Historycznego „Mój Region – Moja Duma, Moje Miasto – Moja Duma” w roku szkolnym/akademickim 2020/2021.

2. Pracę należy wykonać w jednej z wybranych form: esej, prezentacja multimedialna, film, wypracowanie, list, kartka z pamiętnika.

§ 2

TEMATY PRAC KONKURSOWYCH

1. „Bo ni z tego, ni z owego mamy Polskę na pierwszego!” – przedstaw przebieg odzyskania niepodległości na Sąddeckczyźnie.

2. „... i jesteśmy w Sączu z powrotem” – przedstaw historię wizyt Karola Wojtyły, później papieża Jana Pawła II na Sąddeckiej Ziemi.

3. „Monarchów poczet wesoly...” – odnieś słowa dotyczące uczty u Wierzyńka w kontekście wizyt polskich władców na Sąddeckim Zamku – przedstaw historię odwiedzin królewskich głów na zamku w Nowym Sączu.

4. „A wasze imię wierni Sądeczanie” – zinterpretuj słowa Władysława Łokietka i podaj przykłady wierności Sądeczanie na przestrzeni dziejów Polski.



Zestawy zadań Konkursowych

Wojewódzkiego Konkursu Historycznego
„Mój Region – Moja Duma,
Moje Miasto – Moja Duma”

MÓJ REGION – MOJA DUMA, MOJE MIASTO – MOJA DUMA

ETAP I

SZKOŁA PODSTAWOWA

Zadanie 1. (5 punktów)

W zadaniach 1.1. – 1.5. znajdują się pytania z podstawowej wiedzy o Nowym Sączu, wybierz i zaznacz w nich jedną prawidłową odpowiedź.

1.1. W którym roku został założony Nowy Sącz?

- A. w 1138 roku
- B. w 1180 roku
- C. w 1292 roku
- D. w 1109 roku

1.2. Jaki władca wydał akt lokacyjny Nowego Sącza?

- A. Przemysław II
- B. Wacław II
- C. Władysław Łokietek
- D. Kazimierz III Wielki

1.3. Jak nazywała się wioska na miejscu której powstał Nowy Sącz?

- A. Świniarsko
- B. Kamienica
- C. Niskowa
- D. Stary Sącz

1.4. Nowy Sącz powstał w widłach dwóch dużych rzek. Jakich rzek?

- A. Kamienica, Dunajec
- B. Poprad, Dunajec, Kamienica
- C. Wisła, Dunajec
- D. Kamienica, Dunajec, Wisła


1.5. Która święta jest patronką Nowego Sącza i jej wizerunek znajduje się w herbie miasta?

- A. św. Helena
- B. św. Jadwiga
- C. św. Kinga
- D. św. Małgorzata

Pytania do lektury: „Przewodnik po zabytkach”

Zadanie 2. (2 punkty)

Obejrzyj ilustrację i wykonaj podpunkty.



Źródło: Przewodnik po zabytkach,
I. Styczyńska i A. Totoń (red), Nowy Sącz 1994
i późniejsze wydania;

2.1. Czy kościół ukazany na ilustracji mógł istnieć pod obecnym wezwaniem w XIV wieku?

- | | |
|---------------------------------|---------------------------------|
| <input type="checkbox"/> A. tak | <input type="checkbox"/> A. tak |
| <input type="checkbox"/> B. nie | <input type="checkbox"/> B. nie |

2.2. Uzasadnij swoją odpowiedź podając jeden argument:

.....
.....
.....
.....
.....

Zadanie 3. (1 punkt)

Dokończ poniższe zdanie, zaznaczając wybraną przez siebie odpowiedź.

Budynek Szkoły im. Adama Mickiewicza znajduje się przy ulicy:

- A. ul. Jagiellońskiej 1
- B. ul. Długosza 2
- C. ul. Kościuszki 3
- D. ul. Matejki 4

Zadanie 4. (4 punkty)

Na podstawie opisu rozpoznaj budynek, a następnie wpisz jego nazwę w wykropkowane miejsce.

4.1. Usytuowana jest przy ul. Jagiellońskiej, z dojściem od Alei Wolności. Murowana, jednonawowa z niewyodrębnionym prezbiterium, posiada sklepienie kolebkowe. Oświetlona jest półkolistymi oknami. Siodłowy, kryty miedzią dach wieńczy sygnaturka. Do 1955 r. kaplica nosiła wezwanie św. Mikołaja. [...]

Źródło: Przewodnik po zabytkach, I. Styczyńska i A. Totoń (red), Nowy Sącz 1994 i późniejsze wydania;

•

4.2. Parafialny usytuowany jest w centrum miasta. Zbudowany został według projektu wybitnego architekta Teodora Talowskiego (1857-1910). [...]

Źródło: Przewodnik po zabytkach, I. Styczyńska i A. Totoń (red), Nowy Sącz 1994 i późniejsze wydania;

•

4.3. (...) zwana też bóżnicą - dom modlitw Żydów nowosądeckich - usytuowana jest nieopodal zamku królewskiego [...]

Źródło: Przewodnik po zabytkach, I. Styczyńska i A. Totoń (red), Nowy Sącz 1994 i późniejsze wydania;

•

MÓJ REGION – MOJA DUMA, MOJE MIASTO – MOJA DUMA

ETAP I

SZKOŁA PODSTAWOWA

4.4. (...) wzniesiony został w miejscu dworzyszczu z czasu lokacji miasta, z fundacji Kazimierza Wielkiego, w latach 1350-60. [...]

Źródło: Przewodnik po zabytkach, I. Styczyńska i A. Totań (red), Nowy Sącz 1994 i późniejsze wydania;

•

Pytania do lektury: „Powstanie i cele kapituły kolegiackiej w Nowym Sączu”

Zadanie 5. (4 punkty)

Przyporządkuj nazwiska pierwszych prałatów kapituły Kolegiackiej w Nowym Sączu do ich stanowisk zajmowanych w kapitule. [przyporządkuj literę (A-D) do numeru (1-4)]

- Prałat:**
1. *Kasper Rockenberg;*
 2. *Jan z Dąbrówki;*
 3. *Jan z Wielopola;*
 4. *Piotr z Ołomuńca;*

- Stanowisko:**
- A. *archidiakon;*
 - B. *prepozyt;*
 - C. *kustosz;*
 - D. *dziekan;*

1. 2. 3. 4.

Zadanie 6. (1 punkt)

Odpowiedz na poniższe pytanie, zaznaczając wybraną przez siebie odpowiedź.

Jakim szpitalem opiekowała się kapituła w Nowym Sączu?

- A. św. Wojciecha
- B. św. Kingi
- C. św. Walentego
- D. św. Łukasza

Zadanie 7. (3 punkty)

Uzupełnij poniższy tekst. Przyporządkuj do każdego zdania właściwe uzupełnienie spośród oznaczonych literami A–C.

Kapituła kolegiacka św. Małgorzaty została utworzona w 7.1. _____. Dokument wynoszący kościół św. Małgorzaty do godności kolegiaty wydał pierwszy kardynał Polski 7.2. _____. W kolegiacie dbano o rozwój języka 7.3. _____.

7.1.

- A. 1348 roku
- B. 1448 roku
- C. 1548 roku

7.2.

- A. Jan Grot
- B. Karol Wojtyła
- C. Zbigniew Oleśnicki

7.3.

- A. polskiego
- B. greckiego
- C. łacińskiego

MÓJ REGION – MOJA DUMA, MOJE MIASTO – MOJA DUMA

ETAP I

SZKOŁA PODSTAWOWA

Pytania do lektury: „Sądecka Pani”

Zadanie 8. (1 punkt)

Odpowiedz na poniższe pytanie, zaznaczając wybraną przez siebie odpowiedź.

W którym roku zmarła św. Kinga?

- A. 1234
- B. 1340
- C. 1567
- D. 1292

Tekst do zadania 9:

„Albowiem z wszelką stanowczością swoich pobożnych zamiarów w samym mieście Sączu zbudowała klasztor dla zakonnicy reguły czcigodnej dziewicy Klary. W tymże klasztorze zgromadziła wiele panien z rodzin szlacheckich, nawet książęcych, a także wieśniaczych, aby służyły Bogu Wszechmogącemu, Najświętszej Maryi Pannie, a także chwalebniemu wyznawcy św. Franciszkowi. (...)”

Źródło: Sądecka Pani, Feliks Kiryk; w : Rocznik Sądecki, 1999 r. (str. 9-19);

Zadanie 9. (1 punkt)

Przeczytaj tekst i odpowiedz na pytanie. Wybierz odpowiedź A lub B i jej uzasadnienie 1., 2. lub 3.

Czy przytoczony fragment mówi o świętej Kindze?

A.	Tak,	ponieważ	1.	W tekście nie ma użytych żadnych nazw związanych z Sądecczyzną.
			2.	Sformułowanie „klasztor dla zakonnicy reguły czcigodnej dziewicy Klary” nie odnosi się do klasztoru klarysek.
B.	Nie,		3.	W tekście znajdują się nazwa „Sącz” oraz informacja jaka reguła ma obowiązywać w klasztorze (reguła św. Klary).

Zadanie 10. (1 punkt)

Odpowiedz na poniższe pytanie, zaznaczając wybraną przez siebie odpowiedź.

Za patronkę, których państw papieska Kongregacja Obrzędów uznała św. Kingę w 1715 roku?

- A. Polski i Litwy
- B. Czech i Słowacji
- C. Austrii i Węgier
- D. Francji i Włoch

Pytania do lektury: „Żydzi w Nowym Sączu”

Zadanie 11. (2 punkty)

Uzupełnij poniższy tekst. Wpisz odpowiedzi w wyznaczone miejsca.

Na początku XVII wieku starosta sądecki **11.1.** _____ (wpisz imię i nazwisko) pozwolił kilku rodzinom żydowskim zajmującym się handlem zamieszkać przy zamku królewskim w Nowym Sączu. (...) Przywilej zezwalający Żydom na osiedlenie się w Nowym Sączu wydał w 1673 roku król **11.2.** _____ (wpisz imię (ewentualnie imiona) i nazwisko króla).

Miejsce na odpowiedź:

11.1.

11.2.

Zadanie 12. (1 punkt)

Odpowiedz na poniższe pytanie, zaznaczając wybraną przez siebie odpowiedź.

Przy jakiej ulicy znajduje się Dawna Synagoga w Nowym Sączu?

- A. przy ul. Lwowskiej
- B. przy ul. Piotra Skargi
- C. przy ul. Berka Joselewicza
- D. przy ul. Krańcowej

Zadanie 13. (1 punkt)

Przeanalizuj ilustrację i odpowiedz na poniższe pytanie, zaznaczając wybraną przez siebie odpowiedź.

Czy ilustracja przedstawia macewę żydowską?

- A. tak
- B. nie



Źródło: [https://pl.wikipedia.org/wiki/\(...\)](https://pl.wikipedia.org/wiki/(...)),
dostęp 12.11.2018

MÓJ REGION – MOJA DUMA, MOJE MIASTO – MOJA DUMA
ETAP I
SZKOŁA PODSTAWOWA

Pytania do lektury: „*Sądecty Olimpijczycy z lat 1964-1976*”

Zadanie 14. (6 punktów)

Uzupełnij tabelę, przyporządkowując do jej odpowiednich części postaci wypisane poniżej. (tabela dotyczy reprezentantów polski na IO¹ w 1972 r., związanych z Sądecczyzną)

Wybrani sądeccy olimpijczycy z 1972 roku

Janusz Grzemowski; *Wojciech Kudlik;* *Ryszard Gawior;* *Jerzy Stanuch;*
Kunegunda Godawska; *Lucjan Kudzia;*

Sapporo 1972	Monachium 1972

Zadanie 15. (1 punkt)

Odpowiedz na poniższe pytanie, zaznaczając wybraną przez siebie odpowiedź.

Jaką dyscyplinę sportową reprezentował Jan Magiera?

- A. kolarstwo szosowe
- B. rzut dyskiem
- C. kajakarstwo
- D. hokej

Pytania do lektury: *Hasło: „Piłsudski Józef w Nowym Sączu”*

Zadanie 16. (2 punkty)

Zapisz odpowiedź na poniższe pytanie.

Wymień 2 prezenty, które otrzymał Józef Piłsudski od „sądectkich podhalańczyków” w dniu swoich imienin.

- I.
- II.

¹ IO – tu: Igrzyska Olimpijskie

MÓJ REGION – MOJA DUMA, MOJE MIASTO – MOJA DUMA

ETAP I

SZKOŁA PODSTAWOWA

Zadanie 17. (1 punkt)

Odpowiedz na poniższe pytanie, zaznaczając wybraną przez siebie odpowiedź.

Ile razy Józef Piłsudski przebywał w Nowym Sączu przed wybuchem I wojny światowej?

- A. 2
- B. 5
- C. 10
- D. 8

Zadanie 18. (1 punkt)

Zapisz odpowiedź na poniższe pytanie.

Jak Józef Piłsudski nazwał nowosądeckie „*elektryczne światło, kawiarnię, wannę, fryzjera*” ?

ODPOWIEDŹ:

Pytania do lektury: Hasło: „Lachy Sądeckie”

Zadanie 19. (1 punkt)

Odpowiedz na poniższe pytanie, zaznaczając wybraną przez siebie odpowiedź.

Gdzie znajduje się główny ośrodek Lachów Sądeckich?

- A. w Chełmcu
- B. w Niskowej
- C. w Gródku nad Dunajcem
- D. w Podegrodziu

Zadanie 20. (1 punkt)

Zapisz odpowiedź na poniższe pytanie.

Jaką nazwę nosiła spółdzielnia, przy której w 1951 r. powstał Zespół Pieśni i Tańca „Lachy” ?

ODPOWIEDŹ:

MÓJ REGION – MOJA DUMA, MOJE MIASTO – MOJA DUMA

ETAP I

KLASY VII-VIII I GIMNAZJUM

Zadanie 1. (1 punkt)

Podaj wartość posagu Kingi - żony Bolesława Wstydliwego.

ODPOWIEDŹ:

Zadanie 2. (2 punkty)

Wydarzenia uporządkuj w kolejności chronologicznej.

- A. Powstanie klasztoru klarysek w St. Sączu.
- B. Wzniesienie domu gotyckiego w N. Sączu.
- C. Lokacja Nowego Sącza.
- D. Powstanie Kościoła p.w. św. Kazimierza w N. Sączu.

..... - - -

Zadanie 3. (1 punkt)

Podaj miejsce kwaterunku Witolda i Jagielly w N. Sączu w kwietniu 1410 roku przed Wielką Wojną z Zakonem krzyżackim.

ODPOWIEDŹ:

Zadanie 4. (1 punkt)

Jakie działania dywersyjne w nocy 27/28 sierpnia 1939 r. przeprowadziła niemiecka V kolumna?

ODPOWIEDŹ:

.....
.....
.....

Zadanie 5. (3 punkty)

Podczas II wojny światowej sądeckie ulice przyjęły niemieckie nazwy. Podaj ich wcześniejsze nazwy.

- a) Długoschstrasse -
- b) Hauptstrasse -
- c) Partstrasse -

Zadanie 6. (2 punkty)

W których sądeckich szkołach miały siedziby?

- a) szkoła policji granatowej -
- b) szkoła podoficerska Luftwaffe-

MÓJ REGION – MOJA DUMA, MOJE MIASTO – MOJA DUMA

ETAP I

KLASY VII-VIII I GIMNAZJUM

Zadanie 7. (3 punkty)

Chorągwie których sądeckich ziem zostały zmobilizowane w 1410 roku na wypadek ataku ze strony Węgier?

-
-
-

Zadanie 8. (4 punkty)

Podaj lokalizację:

- a) kaplicy pw. św. Marka w N. Sączu – ul.
- b) rezydencji Lubomirskich w N. Sączu- ul
- c) Obrazu Przemienienia Pańskiego autorstwa Łukasza Ewangelisty-
- d) Kościoła p. w. św. Elżbiety-

Zadanie 9. (3 punkty)

W jakiej dziedzinie sportowej zasłynęli:

- a) Tadeusz Friedrich-
- b) Jan Magiera -
- c) Mieczysław Burda-

Zadanie 10. (3 punkty)

Wymień 3 oddziały Muzeum Okręgowego na Sądecczyźnie.

-
-
-

Zadanie 11. (3 punkty)

Podaj lokalizację sądeckich kościołów w średniowieczu.

- a) Św. Wojciecha-
- b) Św. Ducha-
- c) Św. Krzyża-

Zadanie 12. (1 punkt)

Dlaczego generał Franciszek Gągor nazywany był żołnierzem humanistą?

ODPOWIEDŹ:

Zadanie 13. (1 punkt)

Gdzie obecnie znajduje się Veraicon?

ODPOWIEDŹ:

MÓJ REGION – MOJA DUMA, MOJE MIASTO – MOJA DUMA

ETAP I

KLASY VII-VIII I GIMNAZJUM

Zadanie 14. (3 punkty)

Jakie tytuły nosił władca lokujący Nowy Sącz?

TYTUŁY:

.....
.....

Zadanie 15. (1 punkt)

Jaka organizacja powstała z połączenia Duchowców i Promienistych?

ODPOWIEDŹ:

Zadanie 16. (2 punkty)

Podpisz przedstawione postaci.



a)



b)

MÓJ REGION – MOJA DUMA, MOJE MIASTO – MOJA DUMA
ETAP I
KLASY VII-VIII I GIMNAZJUM

Zadanie 17. (2 punkty)

Podaj lokalizację zamieszczonego niżej budynku. Podaj jaką funkcję spełnia obecnie.

LOKALIZACJA:

.....
.....

FUNKCJA:

.....
.....
.....
.....



Zadanie 18. (2 punkty)

Komu poświęcona jest poniższa kapliczka, jakie incydenty miały miejsce w miejscu gdzie obecnie się znajduje.



PATRON:

.....

INCYDENTY:

.....
.....
.....

Zadanie 19. (1 punkt)

Komu Wacław II, 8 listopada przekazał akt lokacji Nowego Sącza?

ODPOWIEDŹ:

Zadanie 20. (1 punkt)

Jaki zakaz wprowadził w akcie lokacyjnym król dla mieszczan sądeckich?

ODPOWIEDŹ:

Zadanie 21. (1 punkt)

Jak nazywał się związek, którego współzałożycielem był Kazimierz Pieracki, związek ten powstał w 1911 roku?

ODPOWIEDŹ:

MÓJ REGION – MOJA DUMA, MOJE MIASTO – MOJA DUMA

ETAP I

KLASY VII-VIII I GIMNAZJUM

Zadanie 22. (4 punkty)

Do podanych nazwisk sądeckich olimpijczyków dopisz rok i miejsce Igrzysk Olimpijskich, w którym się odbywały .

- a) Mieczysław Kasprzycki -
- b) Zdzisław Nowak -
- c) Mieczysław Burda -
- d) Jerzy Olesiak -

MÓJ REGION – MOJA DUMA, MOJE MIASTO – MOJA DUMA

ETAP I

SZKOŁA PONADGIMNAZJALNA

Zadanie 1. (5 punktów)

Dopasuj postać sądeckiego twórcy do jego charakterystyki. Wybierz spośród podanych.

- a) rozmiłowany w pięknie sądeckiego folkloru; poeta i pisarz; autor powieści pt. „Chochołowscy”
.....
- b) poeta ukazujący w swoich utworach piękno przyrody; felietonista; dziennikarz; autor recenzji teatralnych drukowanych na łamach „Głosu Podhala”
.....
- c) odbył studia na ASP w Krakowie; autor 747 prac malarskich, w tym m.in. portretu Romana Sichrawy
.....
- d) znana malarka; studia ukończyła na ASP w Krakowie i w Paryżu; autorka pejzaży; związana z grupą „Zwornik”
.....
- e) dyrygent orkiestry I Pułku Strzelców Podhalańskich; autor „Marsza Podhalańskiego”
.....

Władysława Szkaradkówna; Antoni Wroński; Bolesław Barbacki; Tadeusz Giewont – Szczecina; Jan Dzieślewski; Marian Dominik – Czuchnowski; Eugeniusz Pawłowski; Maria Ritter

Zadanie 2. (1 punkt)

Jaką nazwę nosiła najliczniejsza grupa twórcza międzywojennego Nowego Sącza, skupiająca literatów i plastyków?

ODPOWIEDŹ:

Zadanie 3. (1 punkt)

Ile „dużych” bibliotek znajdowało się w okresie międzywojennym na terenie Nowego Sącza?

ODPOWIEDŹ:

Zadanie 4. (1 punkt)

Kto stanął na czele Komitetu Odbudowy Zamku w Nowym Sączu zawiązanego w 1926 roku?

ODPOWIEDŹ:

Zadanie 5. (1 punkt)

Gdzie znajdowała się siedziba najstarszego kina w Nowym Sączu?

ODPOWIEDŹ:

MÓJ REGION – MOJA DUMA, MOJE MIASTO – MOJA DUMA

ETAP I

SZKOŁA PONADGIMNAZJALNA

Zadanie 6. (1 punkt)

Podaj datę powstania w Nowym Sączu orkiestry 1 Pułku Strzelców Podhalańskich.

ODPOWIEDŹ:

Zadanie 7. (2 punkty)

Kto i kiedy wydał przywilej zezwalający Żydom na osiedlenie się w Nowym Sączu?

KTO:

KIEDY:

Zadanie 8. (4 punkty)

Dopisz brakujące pojęcie do definicji.

- a) - gmina żydowska
- b) - żydowski cmentarz
- c) - żydowska kaplica grobowa
- d) - żydowska tablica nagrobna

Zadanie 9. (4 punkty)

Podaj nazwy obiektów na zdjęciach. (0-4pkt)



a)



b)



c)

MÓJ REGION – MOJA DUMA, MOJE MIASTO – MOJA DUMA

ETAP I

SZKOŁA PONADGIMNAZJALNA



d)

Zadanie 10. (2 punkty)

Kto i kiedy (dzień, miesiąc, rok) wydał akt lokacji Nowego Sącza?

KTO:

KIEDY:

Zadanie 11. (1 punkt)

Które miejsce zdobył Jan Magiera na Igrzyskach Olimpijskich w Tokio w 1964 roku w kategorii kolarstwo indywidualne na dystansie 195 kilometrów szosą?

ODPOWIEDŹ:

Zadanie 12. (2 punkty)

Gdzie działała widoczna na zdjęciu Herbaciarnia Czerwonego Krzyża w Nowym Sączu i jak nazywała się organizacja, która ją prowadziła?



MIEJSCE DZIAŁA

NAZWA ORGNI

Zadanie 13. (1 punkt)

Podaj datę roczną założenia POW w Nowym Sączu.

ODPOWIEDŹ:

MÓJ REGION – MOJA DUMA, MOJE MIASTO – MOJA DUMA

ETAP I

SZKOŁA PONADGIMNAZJALNA

Zadanie 14. (3 punkty)

Fotografia przedstawia strajk powszechny, który odbył się w Nowym Sączu na rynku, po ogłoszeniu traktatu brzeskiego. Podaj dokładną datę (dzień, miesiąc, rok) tego wydarzenia.

ODPOWIEDŹ:

.....



Zadanie 15. (1 punkt)

Kto jest autorem podanego poniżej fragmentu wspomnień? Podaj jego imię i nazwisko.

„Nowy Sącz przywitał nas nadzwyczaj serdecznie. A rozkosze „wielkomięskie”! Elektryczne światło, kawiarnie, wanna, fryzjer. Zgolilem sobie tam brodę, którą utrzymać w porządku na wojnie jest nadzwyczaj trudno”

ODPOWIEDŹ:

Zadanie 16. (1 punkt)

Nurt judaizmu, który zdominował społeczność żydowską w Nowym Sączu z Chaimem Halberstamem na czele to:

- A. jeszywa
- B. haskala
- C. chasydyzm

Zadanie 17. (1 punkt)

Gdzie została wywieziona większość sądeckich Żydów po likwidacji getta w 1942 roku?

ODPOWIEDŹ:

Zadanie 18. (1 punkt)

Jak nazywał się ostatni starosta nowosądecki pełniący swoją funkcję w latach 1754 – 1784?

ODPOWIEDŹ:

Zadanie 19. (1 punkt)

Podaj łacińską nazwę obrazu Przemienia Pańskiego znajdującego się w ołtarzu głównym Bazyliki św. Małgorzaty.

ODPOWIEDŹ:

MÓJ REGION – MOJA DUMA, MOJE MIASTO – MOJA DUMA

ETAP I

SZKOŁA PONADGIMNAZJALNA

Zadanie 20. (2 punkty)

Na zamku w Nowym Sączu w latach 1469 -1470 przebywali synowie króla Kazimierza Jagiellończyka. Pod czyją opieką się znajdowali?

ODPOWIEDŹ:

Zadanie 21. (3 punkty)

Dopisz postać do informacji o niej.

- a) jego obrazy były podpisywane MATEJKO-
- b) właściciel Łącka w XIII wieku, uczestnik wyprawy krzyżowej -
- c) sądecki kurier, w ostatnią noc przed egzekucją uciekł Niemcom -

Zadanie 22. (1 punkt)

Jak nazywała się rodzina z Nawojowej, która rozwinęła działalność przerzutową na dużą skalę?

ODPOWIEDŹ:

Zadanie 23. (1 punkty)

Jaki tytuł nosi książka Józefa Piłsudskiego, w której wspomina on między innymi bitwę pod Marcinkowicami?

ODPOWIEDŹ:

Zadanie 24. (3 punkty)

Podaj dokładną datę bitwy pod Marcinkowicami – dzień, miesiąc, rok.

ODPOWIEDŹ:

Zadanie 25. (1 punkt)

Na którym sądeckim budynku znajduje się hasło „Silni duchem – silni dłonią”?

ODPOWIEDŹ:

Pytania do lektur z I etapu Konkursu

Zadanie 1. (5 punktów)

W pytaniach 1.1. – 1.5. znajdują się pytania z lektury pt. „Żydzi w Nowym Sączu”, wybierz i zaznacz w nich jedną prawidłową odpowiedź.

1.1. Z którego wieku pochodzą pierwsze wzmianki o Żydach sądeckich?

- A. z XIV wieku p.n.e.*
- B. z XV wieku p.n.e.
- C. z XIV wieku n.e.**
- D. z XV wieku n.e.
- E. żadna z powyższych odpowiedzi nie jest prawidłowa

1.2. W którym roku król Michał Korybut Wiśniowiecki wydał przywilej zezwalający Żydom na osiedlenie się w Nowym Sączu?

- A. w 1671 roku
- B. w 1672 roku
- C. w 1673 roku
- D. w 1674 roku
- E. żadna z powyższych odpowiedzi nie jest prawidłowa

1.3. Budowa synagogi w Nowym Sączu trwała do około roku:

- A. 1674
- B. 1780
- C. 1781
- D. 1673
- E. żadna z powyższych odpowiedzi nie jest prawidłowa

1.4. W XIX wieku społeczność żydowska stanowiła w Nowym Sączu:

- A. 1/3 ogółu mieszkańców
- B. 1/5 ogółu mieszkańców
- C. 1/6 ogółu mieszkańców
- D. 1/8 ogółu mieszkańców
- E. żadna z powyższych odpowiedzi nie jest prawidłowa

1.5. Obozem zagłady do którego wywieziono większość Żydów z Nowego Sącza był:

- A. Oświęcim
- B. Majdanek
- C. Brzezinka
- D. Monowice
- E. żadna z powyższych odpowiedzi nie jest prawidłowa

*p.n.e. – przed naszą erą

**n.e. – naszej ery

MÓJ REGION – MOJA DUMA, MOJE MIASTO – MOJA DUMA
ETAP II
SZKOŁA PODSTAWOWA

Tekst do zadania 2:

Opiekował się cmentarzem żydowskim, grobem cadyka Haberstama, bożnicą przy ul. Wąsowiczów oraz Synagogą. Na stałe mieszkał w Szwecji. Zmarł w 2010 roku.

Źródło: Opracowanie własne, na podst.: Żydzi w Nowym Sączu, Elżbieta Długosz

Zadanie 2. (1 punkt)

Przeczytaj tekst i odpowiedz na zadane pytanie.

O kim mowa w krótkiej charakterystyce?

ODPOWIEDŹ:

Zadanie 3. (2 punkty)

Obejrzyj ilustrację i odpowiedz na pytania.



3.1. Co przedstawia ilustracja?

ODPOWIEDŹ:

.....
.....

3.2. Kto jest autorem tej ilustracji?

ODPOWIEDŹ:

.....
.....

Źródło:
[https://pl.wikipedia.org/wiki/\(...\)/media/File:\(...\)_\(...\)_\(...\)_\(...\).jpg](https://pl.wikipedia.org/wiki/(...)/media/File:(...)_(...)_(...)_(...).jpg), dostęp 15.01.2019 r.

Zadanie 4. (1 punkt)

Odpowiedz na poniższe pytanie, zaznaczając wybraną przez siebie odpowiedź.

Na ile tysięcy grzywien szacowano posag księżniczki węgierskiej Kingi- córki króla węgierskiego Beli IV z rodu Arpadów, żony księcia krakowskiego Bolesława Wstydlivego?

- A. 10 tyś. grzywien
- B. 20 tyś. grzywien
- C. 30 tyś. grzywien
- D. 40 tyś. grzywien
- E. żadna z powyższych odpowiedzi nie jest prawidłowa

MÓJ REGION – MOJA DUMA, MOJE MIASTO – MOJA DUMA
ETAP II
SZKOŁA PODSTAWOWA

Zadanie 5. (2 punkty)

Obejrzyj ilustrację i odpowiedz na pytania.

5.1. Który z sądeckich olimpijczyków wystąpił na tych Igrzyskach Olimpijskich?

ODPOWIEDŹ:

5.2. Jaką dyscyplinę sportową reprezentował ten olimpijczyk?

ODPOWIEDŹ:



Źródło:

https://pl.wikipedia.org/wiki/Letnie_Igrzyska_Olimpijskie_1964,
<https://www.logofirmowe.pl/historyczne-przyklady-logo-olimpiady>,
dostęp 15.01.2019 r.

Pytania do lektury: „Historia Nowego Sącza”

Zadanie 6. (3 punkty)

Dopasuj urząd lub instytucję w sądeckim grodzie do opisu. Wybierz spośród podanych.

6.1. *Podlegały mu, w powierzonym przez króla zakresie sprawy wojskowe, sądowe, skarbowe i dóbr monarszych. Jednym z najważniejszych uprawnień tego urzędnika było zatwierdzenie władz miejskich i przewodzenie sądowi grodzkiemu.*

Źródło: Opracowanie własne, na podst.: Historia Nowego Sącz, Leszek Migrata

•

6.2. *Do kompetencji tego urzędnika należało samodzielne rozstrzyganie w sprawach drobnych i przewodzenie sądowi lawniczemu w sprawach poważniejszych.*

Źródło: Opracowanie własne, na podst.: Historia Nowego Sącz, Leszek Migrata

•

6.3. *Pierwsza wzmianka o istnieniu tej instytucji w Nowym Sączu, pochodzi z 13 grudnia 1315 r. Dominującą rolę w tej instytucji odgrywali przedstawiciele patrycjatu.*

Źródło: Opracowanie własne, na podst.: Historia Nowego Sącz, Leszek Migrata

•

wójt, rada miejska, wójt sądowy, starosta grodowy, kasztelan

Zadanie 7. (1 punkt)

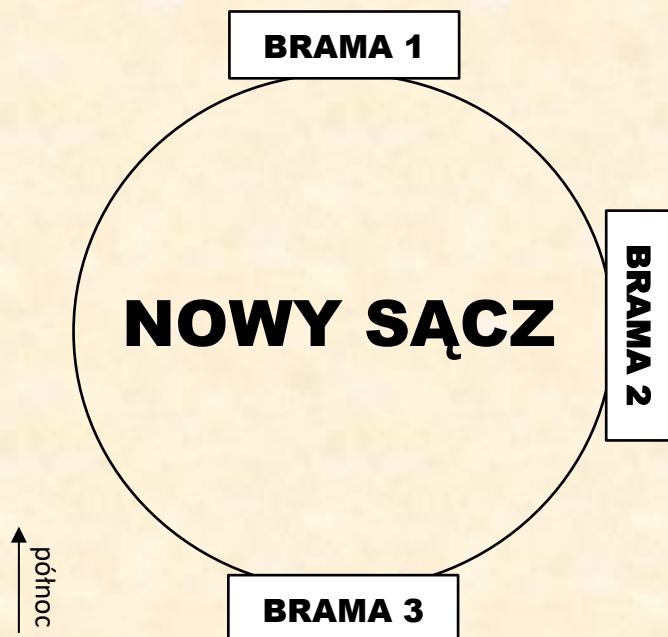
Odpowiedz poniższe pytanie, zaznaczając wybraną przez siebie odpowiedź.

Który nowosądecki wójt, na początku XV w. zdołał objąć ten urząd samodzielnie?

- A. Wydźga
- B. Gedko
- C. Mikołaj Strzelicz
- D. Tylman
- E. żadna z powyższych odpowiedzi nie jest prawidłowa

MÓJ REGION – MOJA DUMA, MOJE MIASTO – MOJA DUMA
ETAP II
SZKOŁA PODSTAWOWA

Materiał do zadania 8:



BRAMY:

- A. *Porta Hungaricalis*
- B. *Porta Cracoviensis*
- C. *Porta Molendinalis*

Źródło: Opracowanie własne, na podst.: Historia Nowego Sącza, Leszek Migrała

Zadanie 8. (3 punkty)

Przyjrzyj się powyższemu grafowi i dobierz nazwę bramy (A-C) do jej miejsca, w którym znajdowała się w średniowieczu (1-3). UWAGA: zwróć uwagę na wszystkie elementy grafu!

BRAMA 1: BRAMA 2: BRAMA 3:
litera litera litera

Zadanie 9. (2 punkty)

Obejrzyj ilustrację i odpowiedz na pytania.

9.1. Podaj lokalizację budowli przedstawionej na zdjęciu.


ODPOWIEDŹ:

.....

9.2. Nazwij fragment tej budowli oznaczony literą A.

ODPOWIEDŹ:

.....



Źródło: <https://mapio.net/pic/p-90167184/>, dostęp 16.01.2019

MÓJ REGION – MOJA DUMA, MOJE MIASTO – MOJA DUMA


ETAP II

SZKOŁA PODSTAWOWA

Zadanie 10. (1 punkt)

Obejrzyj ilustrację i odpowiedz na zadane pytanie, zapisując prawidłową odpowiedź.

Autor książki, której okładka jest widoczna obok, jest cieniony i znany z pisania książek o Nowym Sączu i Sądeckczyźnie, pisał m.in. do „Roczników Sądeckich”. Ponadto jego książka, której okładka jest widoczna obok, była jedną z lektur na II etap tego Konkursu. Podaj imię i nazwisko tego autora.



Źródło:
[https://sadeczanin.info/nagroda-kumora/historia-nowego-sacza-\(...\)-\(...\)](https://sadeczanin.info/nagroda-kumora/historia-nowego-sacza-(...)-(...)), dostęp 16.01.2019

ODPOWIEDŹ:

.....
.....

Pytania do lektury: „Statut i program Związku Stronnictwa Chłopskiego”

Zadanie 11. (1 punkt)

Odpowiedz na zadane pytanie, zapisując prawidłową odpowiedź.

Kiedy odbyło się I Walne Zgromadzenie Związku Stronnictwa Chłopskiego, na którym dokonano wyboru władz i przyjęcia dokumentów programowych?

ODPOWIEDŹ:

Tekst do zadania 12:

„Stan chłopski bowiem, z pod którego ręki płynie najobfitsze bogactw krajowych źródło, który najliczniejszą w narodzie stanowi ludność, jest najdzielniejszą jego siłą”

Źródło: Statut i program Związku Stronnictwa Chłopskiego, Potoczek Jerzy w: Rocznik Sądecki T. 21, 1993

Zadanie 12. (2 punkty)

Przytoczony fragment pochodzi z ważnego dokumentu Rzeczypospolitej Obojga Narodów i został też przytoczony w „Statucie i programie Związku Stronnictwa Chłopskiego”. Napisz z jakiego dokumentu pochodzi ten fragment.

Podaj datę uchwalenia tego dokumentu.

DOKUMENT:

DATA:

MÓJ REGION – MOJA DUMA, MOJE MIASTO – MOJA DUMA

ETAP II

SZKOŁA PODSTAWOWA

Zadanie 13. (1 punkt)

Odpowiedz poniższe pytanie, zaznaczając wybraną przez siebie odpowiedź.

Jak autorzy „Statutu i programu Związku Stronnictwa Chłopskiego” nazywają obojętność?

- A. „grzechem obojętności”
- B. „grzechem niedbalstwa”
- C. „grzechem zaniedbania”
- D. „grzechem próżności”
- E. żadna z powyższych odpowiedzi nie jest prawidłowa

**Pytania do lektury: „Powiat nowosądecki – Miasto i Gmina Grybów,
Miasto i Gmina Krynica”**

Zadanie 14. (1 punkt)

Odpowiedz poniższe pytanie, zaznaczając wybraną przez siebie odpowiedź.

Ile lat liczy pomnik przyrody, dąb o obwodzie ponad 5 m., który znajduje się przy placu Kościuszki w Grybowie?

- A. 100 lat
- B. 200 lat
- C. 300 lat
- D. 400 lat
- E. żadna z powyższych odpowiedzi nie jest prawidłowa

Zadanie 15. (5 punktów)

Przeczytaj krótkie opisy miejscowości z terenu gminy Grybów, a następnie podkreśl, której miejscowości dotyczy dany opis.

- A. Położona jest w dolinie Binczarki rozdzielającej właściwe pasmo Beskidu Niskiego od Gór Grybowskich, na wysokości ok. 400 – 430 m. n.p.m. – **Florynka/Binczarowa**
- B. Położona jest w dolinie potoku Chabrowka, na obszarze Pogórza Rożnowskiego, na wysokości ok. 370 m. n.p.m. Jest niewątpliwie najbardziej znaną miejscowością terenu gminy Grybów. – **Krużłowa Wyżna/Kąclowa**
- C. To duża wieś położona w dolinie Białej, sąsiadująca od północy z Grybowem. Leży na wysokości ok. 340-400 m. n. p. m. – **Ptaszkowa/Kąclowa**
- D. Położona jest w dolinie, u ujścia do Białej potoku Mystosza, na wysokości ok. 380 m. n. p. m. Po raz pierwszy wspomina o niej akt darowizny klucza muszyńskiego na rzecz biskupów krakowskich, wystawiony przez Władysława Jagiełłę w 1391 roku. – **Binczarowa/Florynka**
- E. Położona jest na pograniczu Beskidu Niskiego i Pogórza Rożnowskiego, u podnóża Jaworza (882 m n.p.m.) i Rosochatki (750 m n.p.m.) – **Ptaszkowa/Krużłowa Wyżna**

MÓJ REGION – MOJA DUMA, MOJE MIASTO – MOJA DUMA
ETAP II
SZKOŁA PODSTAWOWA

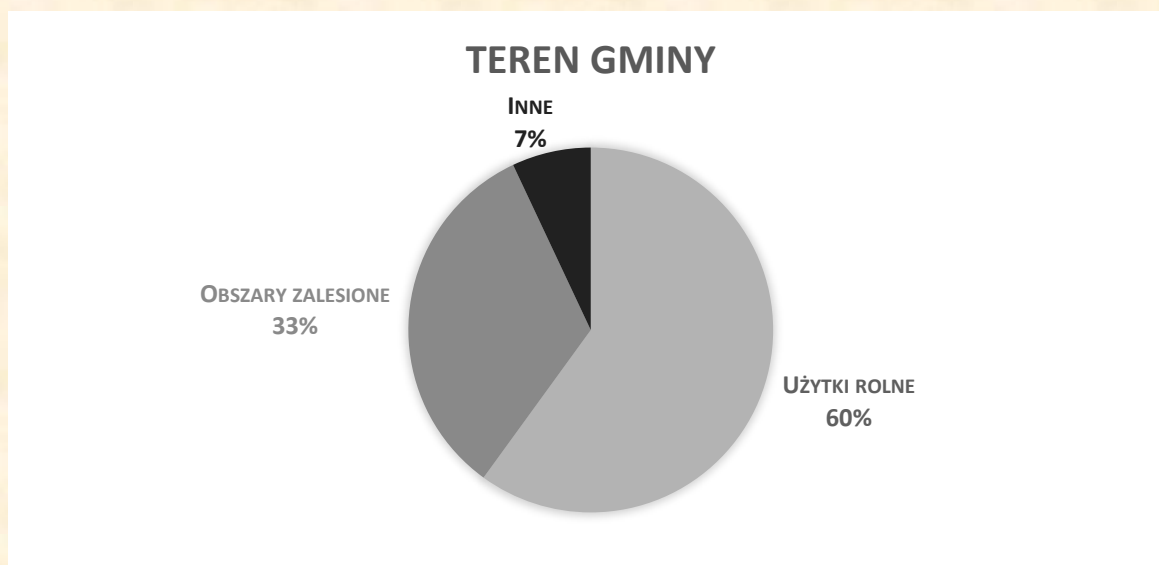
Zadanie 16. (1 punkt)

Odpowiedz poniższe pytanie, zaznaczając wybraną przez siebie odpowiedź.

Ile sanatoriów znajduje się w Krynicy-Zdroju?

- A. 26
- B. 27
- C. 28
- D. 29
- E. żadna z powyższych odpowiedzi nie jest prawidłowa

Material do zadania 17:



Źródło: Opracowanie własne, na podst.: Powiat nowosądecki, M. Michałowicz-Kubal, G. Kubal

źródłowego, które z poniższych stwierdzeń jest prawdziwe, a które fałszywe wpisując obok nich odpowiednio „prawda” lub „fałsz”.

- A. Powyższy wykres przedstawia użycie terenu w gminie Grybów -
- B. Powyższy wykres świadczy o tym, że to gmina rolnicza -
- C. Gmina której dotyczy powyższy wykres jest największa w powiecie nowosądeckim i znajduje się na 7 miejscu pod względem wielkości w Małopolsce -

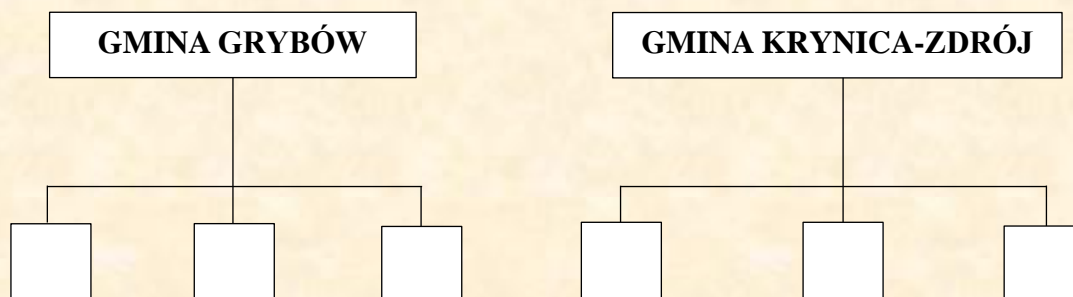
**Za
dan
ie
17.**
Ok
reśl
na
pod
sta
wie
ma
teri

(3)

MÓJ REGION – MOJA DUMA, MOJE MIASTO – MOJA DUMA
ETAP II
SZKOŁA PODSTAWOWA

Zadanie 18. (6 punktów)

Dopasuj informacje (A-F) do gminy, której dotyczy ta informacja.



- A. Zajmuje powierzchnię 153 km².
- B. Ma charakter turystyczno-wypoczynkowy.
- C. W stolicy tej gminy znajduje się 5 krytych basenów.
- D. Jest jedną z największych gmin w Małopolsce.
- E. Posiada 16 sołectw.
- F. 85,3% mieszkańców tej gminy korzysta z wodociągu.

Pytania do lektury: „*Hasła w Encyklopedii Sąddeckiej: Karski Jan na Sądeczyźnie, Pieracki Bronisław*”

Zadanie 19. (1 punkt)

Odpowiedz na zadane pytanie, zapisując prawidłową odpowiedź.

Co jako pierwszy na świecie zrobił Jan Karski?

ODPOWIEDŹ:

Zadanie 20. (3 punkty)

Odpowiedz na poniższe pytania, zapisując prawidłową odpowiedź.

20.1. Gdzie urodził się Bronisław Pieracki?

ODPOWIEDŹ:

20.2. Wiceministrem jakiego ministerstwa był Bronisław Pieracki?

ODPOWIEDŹ:

20.3. Jak zginął Bronisław Pieracki?

ODPOWIEDŹ:

MÓJ REGION – MOJA DUMA, MOJE MIASTO – MOJA DUMA
ETAP II
KLASY VII-VIII I GIMNAZJUM

Zadanie 1. (2 punkty)

Wymień wcześniejsze nazwy miasta Nowego Sącza.

- I.
II.

Zadanie 2. (6 punktów)

Wymień miasta z pieczęci Sądu Sześciu Miast.

- I.
II.
III.
IV.
V.
VI.

Tekst do zadania 3:

*„Ilkusz też słynie gracą, w kruszec nie ubogi,
Kunegundis ratuje Sandecz od zley trwogi”*

Zadanie 3. (1 punkt)

Kogo opiewa (opisuje) fragment wiersza?

ODPOWIEDŹ:

Zadanie 4. (2 punkty)

Z którymi władcami Polski związane są słowa:

SĄDECZANIE WIERNI, PRAWI, NIEWZRUSZENI

ODPOWIEDŹ:

Zadanie 5. (3 punkty)

Wymień trzy barwy miasta Nowego Sącza.

- I.
II.
III.

MÓJ REGION – MOJA DUMA, MOJE MIASTO – MOJA DUMA
ETAP II
KLASY VII-VIII I GIMNAZJUM

Zadanie 6. (3 punkty)

Podaj aktualne lokalizacje:

- a) Kościoła Św. Apostołów Piotra i Pawła -
- b) Kościół Św. Krzyża -
- c) Kościół (Kaplica) Niepokalanego Poczęcia Najświętszej Marii Panny -

Zadanie 7. (1 punkt)

Podaj lokalizację, prezentowanego na wizualizacji kościoła.



LOKALIZACJA:


.....
.....

Zadanie 8. (1 punkt)

Który z kościołów przedstawił na swoim obrazie Nikifor Krynicki?

ODPOWIEDŹ:

.....
.....
.....



MÓJ REGION – MOJA DUMA, MOJE MIASTO – MOJA DUMA
 ETAP II
 KLASY VII-VIII I GIMNAZJUM

Obrazy do zadania 9:

			
I.	II.	III.	IV.

Zadanie 9. (2 punkty)

Wskaż obrazy autorstwa Marii Ritter.

OBRAZY:

Zadanie 10. (2 punkty)

Wyjaśnij pojęcia.

- a) lejbnik -
-
- b) sardaczek -
-

Zadanie 11. (1 punkt)

Gdzie w Nowym Sączu, jako nastolatek mieszkał Bronisław Pieracki?

ODPOWIEDŹ:

.....

.....

Zadanie 12. (2 punkty)

Z których gazet (wymień dwie), chłopci czerpali hasło aktywizujące ich do działalności politycznej: „*CHŁOPI WYBIERAJCIE CHŁOPA*”?

- I.
- II.

MÓJ REGION – MOJA DUMA, MOJE MIASTO – MOJA DUMA
ETAP II
KLASY VII-VIII I GIMNAZJUM

Zadanie 13. (1 punkt)

W której miejscowości, w 1892 wójtowie postanowili o założeniu Związku Stronnictwa Chłopskiego?


ODPOWIEDŹ:

Zadanie 14. (2 punkty)



Podpisz osobę przedstawioną na zdjęciu.

a)



b).....

Zadanie 15. (1 punkt)

Gdzie została pochowana księżna Kinga?

ODPOWIEDŹ:

Zadanie 16. (1 punkt)

Z czego zasłynęła (o czym wspominał Szczęsny Morawski) kobieta o nazwisku Potoczek.

ODPOWIEDŹ:

MÓJ REGION – MOJA DUMA, MOJE MIASTO – MOJA DUMA
ETAP II
KLASY VII-VIII I GIMNAZJUM

Zadanie 17. (1 punkt)

Skąd pochodziła rodzina Potoczków?

ODPOWIEDŹ:

Zadanie 18. (3 punkty)

Wymień 3 osoby (imię i nazwisko), które miały wielki wpływ na kształtowanie patriotyzmu chłopów galicyjskich.

I.

II.

III.

Zadanie 19. (2 punkty)

Podaj daty.

a) pierwszej lokacji Starego Sącza -

b) drugiej lokacji Starego Sącza-

Zadanie 20. (2 punkty)

Kto (podaj nazwisko) i kiedy (miesiąc i rok) zamordował Bronisława Pierackiego?

KTO:

KIEDY:

Zadanie 21. (1 punkt)

Skórzany pas górali sądeckich, wytłaczany we wzory osiągał szerokość:

A. 20 cm

B. 15 cm

C. 10 cm

Zadanie 22. (1 punkt)

Jakiego koloru tunikę ma św. Małgorzata na obecnym herbie miasta Nowego Sącza?

ODPOWIEDŹ:

MÓJ REGION – MOJA DUMA, MOJE MIASTO – MOJA DUMA
ETAP II
SZKOŁA PONADGIMNAZJALNA

Pytania do lektury: „Halifax z Wojnarowej”

Zadanie 1. (1 punkt)

Podaj dokładną datę (dzień, miesiąc, rok) zestrzelenia nad Wojnarową samolotu pilotowanego przez Jamesa G. Mccalla .

DATA:

Zadanie 2. (1 punkt)

Zestrzelony nad Wojnarową Halifax nosił numer :

- A. JP276 FS-A
- B. JP162 FS-S
- C. JP181 FS-X
- D. EB147 FS-K

Zdjęcia do zadania 3:

1.



2.



3.



4.



Zadanie 3. (1 punkt)

Obejrzyj ilustracje i odpowiedz na pytanie.

Które zdjęcie przedstawia samolot typu Halifax?

ODPOWIEDŹ:

Zadanie 4. (1 punkt)

Podaj numer Dywizjonu RAF do którego należał zestrzelony samolot.

ODPOWIEDŹ:

MÓJ REGION – MOJA DUMA, MOJE MIASTO – MOJA DUMA

ETAP II

SZKOŁA PONADGIMNAZJALNA

Zadanie 5. (1 punkt)

Jaki był kryptonim placówki, gdzie miał zostać dokonany zrzut?

ODPOWIEDŹ:

Zadanie 6. (1 punkt)

Ilu lotników z siedmioosobowej załogi Halifaxa przeżyło jego katastrofę?

- A. wszyscy
- B. pięciu
- C. czterech
- D. trzech

Pytania do lektury: „*Sto scen z historii Nowego Sącza 1292-2017*”

Zadanie 7. (4 punkty)

Na podstawie opisu rozpoznaj osobę i napisz o kim mowa w przytoczonym fragmencie.

A. „*Biskup krakowski –możny zwolennik rządów czeskich w Małopolsce, a także, co nie bez znaczenia, ówczesny właściciel wsi Kamienica*”

•

B. „*... z Nowego Sącza wywodzi się ceniony XV-wieczny malarz – [...], aktywny nie tylko w swoim mieście, ale również w Bardowie, a przede wszystkim w Krakowie, którego obywatelstwo przyjął w roku 1443.*”

•

C. „*... wybitny polityk, ekonomista i prawnik, [...] urodził się w Stanisławowie, młodość spędzając w Nowym Sączu. [...] trzykrotny rektor Akademii Krakowskiej.[...] powołany w 1880 roku na stanowisko ministra skarbu [...] zrównoważył budżet i trwale uzdrowił finanse państwa austriackiego*”

•

D. „*W 1901 roku [...] ukazało się jego wiekopomne dzieło „Historyja Nowego Sącza od wstąpienia dynastii Wazów”. [...] podczas wieloletniego pobytu w klasztorze Jezuitów w Nowym Sączu poświęcił się badaniom przeszłości miasta*”

•

Zadanie 8. (1 punkt)

Podaj tytuł znanej kolędy, której powstanie związane jest z klasztorem Jezuitów w Nowym Sączu.

TYTUŁ:

MÓJ REGION – MOJA DUMA, MOJE MIASTO – MOJA DUMA

ETAP II

SZKOŁA PONADGIMNAZJALNA

Zadanie 9. (2 punkty)

Przyporządkuj nazwy pieczęci Nowego Sącza do odpowiednich ilustracji wybierając odpowiedzi spośród podanych.



1.

2.

- A. pieczęć sądu sześciu miast
- B. pieczęć mniejsza (radziecka) Nowego Sącza z XIV wieku
- C. pieczęć większa Nowego Sącza z XVII wieku
- D. pieczęć sądu wójtowskiego

Zadanie 10. (3 punkty)

Wymień trzy, spośród nieistniejących już kościołów, jakie funkcjonowały na terenie Nowego Sącza.

I.

II.

III.


Zadanie 11. (1 punkt)

Podaj dokładną datę – dzień, miesiąc, rok – wysadzenia w powietrze zamku królewskiego w Nowym Sączu.

DATA:

MÓJ REGION – MOJA DUMA, MOJE MIASTO – MOJA DUMA
ETAP II
SZKOŁA PONADGIMNAZJALNA

Ilustracje do zadania 12:



Zadanie 12. (2 punkty)

Uzupełnij brakujące informacje.

1. Ilustracje przedstawiają wnętrze –
2. Autorem wielobarwnych polichromii zdobiących wnętrza tego obiektu jest –
.....

Zadanie 13. (1 punkt)

Spośród wymienionych poniżej postaci podkreśl nazwiska trzech cichociemnych urodzonych w Nowym Sączu.

- | | | |
|----------------------|---------------------|--------------------------|
| A. Jędrzej Tucholski | B. Jerzy Iszkowski | C. Mieczysław Kwarciński |
| D. Franciszek Żak | E. Stanisław Winter | F. Jan Słowikowski |

Pytania do lektury: „*Początki chrześcijaństwa w ziemi sądeckiej. Święty Andrzej Świerad i jego środowisko religijne*”

Zadanie 14. (2 punkty)

Jakie imiona, zgodnie z lokalną tradycją, nosili dwaj towarzysze św. Świerada, pustelnicy, co do których istnienia brak bezpośrednich przekazów źródłowych?

IMIONA:

MÓJ REGION – MOJA DUMA, MOJE MIASTO – MOJA DUMA

ETAP II

SZKOŁA PONADGIMNAZJALNA

Zadanie 15. (4 punkty)

Przy informacjach dotyczących życia św. Świerada zapisz Prawda – przy zdaniach prawdziwych, a Falsz- przy zdaniach fałszywych

1.	O życiu św. Świerada w Tropiu dowiadujemy się jedynie z zapisów Jana Długosza.	
2.	Pod koniec X wieku św. Świerad mieszkał w eremie nad Dunajcem, niedaleko Czchowa, w towarzystwie pustelnika Benedykta.	
3.	Według autora artykułu najbardziej prawdopodobne miejsce pochodzenia św. Świerada to rejon dzisiejszego Zakliczyna.	
4.	Źródła wyraźnie wskazują, że św. Świerad pochodził z rodu Gierałtów, właścicieli Tropia do początków XIV stulecia.	

Zadanie 16. (1 punkt)

Jakie imię przyjął św. Świerad po wstąpieniu do klasztoru benedyktynów na górze Zabor w Nitrze? Podkreśl poprawną odpowiedź.

- A. Benedykt
- B. Andrzej
- C. Stefan
- D. Urban

Zadanie 17. (1 punkt)

Wyjaśnij, jakie jest według ludowej tradycji, pochodzenie nazwy miejscowości Siemiechów, położonej pomiędzy Zakliczynem a Gromnikiem.

ODPOWIEDŹ:

.....
.....

Pytania do lektury: „Statut i program Związku Stronnictwa Chłopskiego”

Zadanie 18. (4 punkty)

Uzupełnij poniższy tekst brakującymi informacjami.

„Pierwsza na ziemiach polskich ludowa organizacja polityczna Związek Stronnictwa Chłopskiego (ZSch) – odbyła swe I Walne Zgromadzenie w **18.1.** w dniu 3 lipca **18.2.** roku. Powstanie ZSch wiąże się z rodziną **18.3.** i **18.4.**

MÓJ REGION – MOJA DUMA, MOJE MIASTO – MOJA DUMA

ETAP II

SZKOŁA PONADGIMNAZJALNA

Zadanie 19. (1 punkt)

W której z podanych poniżej miejscowości znajdowała się siedziba organizacji? Zaznacz właściwą odpowiedź.

- A. Kraków
- B. Lwów
- C. Nowy Sącz
- D. Wierzchosławice

Zadanie 20. (1 punkt)

Kto mógł zostać członkiem ZSCh? Napisz, jakie trzy warunki trzeba było spełnić, aby zostać przyjętym do tej organizacji.

KTO:

WARUNKI:

I.

II.

III.

Pytania do lektury: *Hasło „Piłsudski Józef w Nowym Sączu”*

Zadanie 21. (4 punkty)

Dokończ zdanie wpisując brakujące informacje.

W 1935 roku, po śmierci Marszałka Piłsudskiego, Rada Miejska Nowego Sącza, nadała jego imię **21.1.** i ulicy przebiegającej koło koszar 1 PSP. Ponadto działacze PTT „Beskid” pobrali skały i ziemię z **21.2.** oraz z Radziejowej w celu wysypania na Kopcu w Krakowie. Współcześnie Piłsudski jest patronem ulicy wzdłuż rzeki **21.3.**, mostu helleńskiego oraz szkoły w **21.4.**

Pytania do lektury: *Hasło „Legiony na Sądecczyźnie”*

Zadanie 22. (1 punkt)

Jakie hasło widnieje obecnie na zbiorowym grobie w kwaterze legionistów na cmentarzu komunalnym? Podaj jego treść.

ODPOWIEDŹ:

MÓJ REGION – MOJA DUMA, MOJE MIASTO – MOJA DUMA

ETAP II

SZKOŁA PONADGIMNAZJALNA

Zadanie 23. (1 punkt)

W jakich okolicznościach pieśń pt. „*My, Pierwsza Brygada*”, odegrana zostaje jako hymn żołnierski? Podkreśl prawidłową odpowiedź.

- A. po bitwie pod Marcinkowicami
- B. po wkroczeniu Józefa Piłsudskiego do Nowego Sącza
- C. po utworzeniu w Nowym Sączu I Brygady Legionów
- D. po bitwie pod Łowczówkiem

Pytania do lektury: *Hasło „Zamek królewski”*

Zadanie 24. (4 punkty)

Uzupełnij tekst dotyczący historii sądeckiego zamku. Przyporządkuj każdemu zdaniu właściwe uzupełnienie spośród oznaczonych literami A – C.

Zamek królewski wzniesiony został nad brzegiem Dunajca, rozbudowany z fundacji króla 24.1. prawdopodobnie w latach 24.2. Był ulubioną warownią króla Władysława Jagiełły, miejscem, gdzie pod opieką Jana Długosza wychowywali się synowie Kazimierza Jagiellończyka. W 1611 roku zniszczony przez pożar, odbudowany został przez starostów Lubomirskich według projektu architekta włoskiego 24.3. W XVIII wieku i w czasie rozbiorów popadł w ruinę. W latach 30. XX wieku został częściowo odbudowany ale pod koniec okupacji wysadzony w powietrze. W latach 50. Odtworzono 24.4. wraz z odcinkiem muru obronnego.

24.1.

- A. Wacława II
- B. Kazimierza Wielkiego
- C. Władysława Jagiełły

24.2.

- A. 1350-1360
- B. 1360-1370
- C. 1250-1260

24.3.

- A. M. Tappioli
- B. M. Trapoli
- C. B. Berecci

24.4.

- A. Basztę Zamkową
- B. Basztę Kowalską
- C. Basztę Szlachecką

Pytania do lektury: *Hasło „Bronisław Pieracki”*

Zadanie 25. (1 punkt)

Czy za swoje zasługi Bronisław Pieracki został odznaczony Orderem Wojennym Virtuti Militari?

ODPOWIEDŹ:

MÓJ REGION – MOJA DUMA, MOJE MIASTO – MOJA DUMA

ETAP III

SZKOŁA PODSTAWOWA

Pytania do lektur z I i II etapu Konkursu

Zadanie 1. (5 punktów)

W zadaniach 1.1. – 1.5. znajdują się pytania z lektury pt. „*Sądecka Pani*”, wybierz i zaznacz w nich jedną prawidłową odpowiedź. Pamiętaj o przeniesieniu odpowiedzi do tabeli odpowiedzi, która znajduje się na dole strony.

1.1. Wobec jakich Piastowiczów Bolesław Wstydlivy wystawił dokument nadania ziemi Sądeckiej swojej żonie – Kindze?

- A. Kazimierza – księcia mazowieckiego i Ziemowita – księcia kujawsko-łęczyckiego
- B. Kazimierza – księcia kujawsko-łęczyckiego i Ziemowita – księcia mazowieckiego
- C. Kazimierza – księcia sandomierskiego i Ziemowita – księcia mazowieckiego
- D. żadna z powyższych odpowiedzi nie jest prawidłowa

1.2. Jakiemu klasztorowi komes Wydźga sprzedał Łącko w 1251 roku?

- A. Bożogrobcom z Miechowa
- B. Bożogrobcom z Tarnowa
- C. Bożogrobcom z Krakowa
- D. żadna z powyższych odpowiedzi nie jest prawidłowa

1.3. Jaką wieś w 1276 r. księżna Kinga pozwoliła lokować Henrykowi Ścikowi i Henrykowi ze św. Władysława, na prawie czynszowym, w zamian za sołectwo?

- A. Łącko
- B. Jazowsko
- C. Gołkowice
- D. żadna z powyższych odpowiedzi nie jest prawidłowa

1.4. Około którego roku powstał najstarszy żywot księżnej Kingi?

- A. około 1330 roku
- B. około 1320 roku
- C. około 1300 roku
- D. żadna z powyższych odpowiedzi nie jest prawidłowa

1.5. W którym roku oficjalnie ogłoszono księżną Kingę błogosławioną?

- A. w 1483 roku
- B. w 1583 roku
- C. w 1683 roku
- D. żadna z powyższych odpowiedzi nie jest prawidłowa

TABELA ODPOWIEDZI DO ZADANIA 1

1.1.				1.2.				1.3.				1.4.				1.5.			
A	B	C	D	A	B	C	D	A	B	C	D	A	B	C	D	A	B	C	D

MÓJ REGION – MOJA DUMA, MOJE MIASTO – MOJA DUMA

ETAP III

SZKOŁA PODSTAWOWA

Tekst i taśma chronologiczna do zadania 2 i do zadania 3:

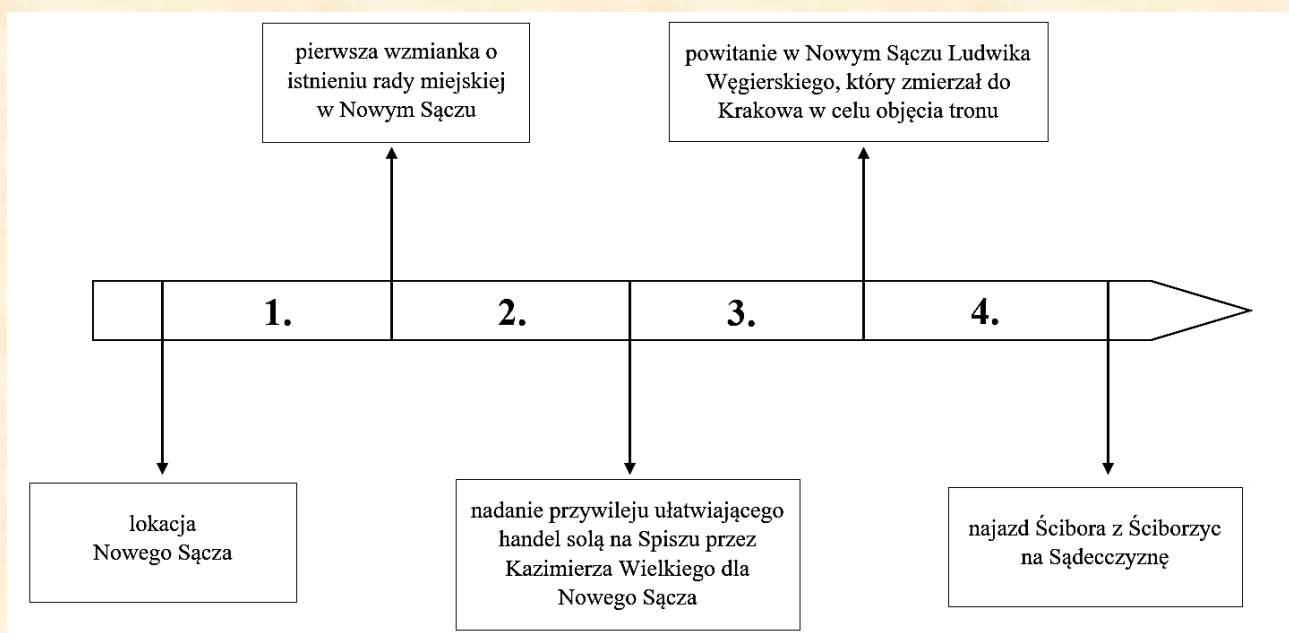
Tekst:

„Wjechawszy spod cienistego sklepienia sosnowych odwiecznych borów, zapuścili się w pagórkowaty kraj sądecki, modrzewiowe kościółki wiejskie, otoczone wieńcem lip, dźwiękiem dzwonów głosiły szczęśliwą nowinę, że nadjeżdżała władczyni tak długo i tęsknie wyglądana. [...] Po drodze kłęczy w klasztorze sądeckim u grobu Kingi, swej świętej poprzednicy, jechała dalej ku Krakowowi i wśród nieustannych powitań i holdów stanęła na Wawelu 13 października [...].

[59 słów]

Źródło: „Królowa (...)”, L. Rydel, Warszawa 1984, str. 38-39.

Taśma chronologiczna:



Zadanie 2. (1 punkt)

Odpowiedz na zadane pytanie, zaznaczając wybraną przez siebie odpowiedź. Pamiętaj o przeniesieniu odpowiedzi do tabeli odpowiedzi.

Wydarzenie opisane w tekście miało miejsce w okresie oznaczonym na taśmie chronologicznej numerem:

- A. 1
- B. 2
- C. 3
- D. 4

TABELA ODPOWIEDZI DO ZADANIA 2

ZADANIE 2			
A	B	C	D

Zadanie 3. (1 punkt)

Odpowiedz na zadane pytanie, zapisując swoją odpowiedź w wyznaczonym miejscu.

Wjazd jakiego monarchy do Polski opisuje tekst?

ODPOWIEŹ:

MÓJ REGION – MOJA DUMA, MOJE MIASTO – MOJA DUMA

ETAP III
SZKOŁA PODSTAWOWA

Tekst do zadania 4:

„Lokacja miejska Grybowa miała miejsce w roku 1340, wystawcą przywileju lokacyjnego był Kazimierz Wielki. Na jego mocy Hanko, syn bogatego mieszczanina sądeckiego (...) lokował miasto na prawie niemieckim. (...) Początkowo miasto zwane było z niemiecka Grynbergiem (Grünberg – (...)), z czasem utrwaliła się obecna nazwa”

[41 słów]

Źródło: . Powiat nowosądecki, M. Michałowicz – Kubal, G. Kubal, Krosno 2000 r.

Zadanie 4. (3 punkty)

Odpowiedz na pytania 4.1.-4.3. zapisując odpowiedź w wyznaczonym miejscu.

4.1. Jak nazywała się osoba, o której mowa w podkreślonym podwójną linią fragmencie tekstu?

ODPOWIEDŹ:

4.2. Na podstawie wiedzy własnej, zaczerpniętej z lektury „Powiat nowosądecki” napisz jaką funkcję w nowo lokowanym mieście pełniła osoba podkreślona pojedynczą linią w powyższym tekście.

ODPOWIEDŹ:

4.3. Na podstawie wiedzy własnej, zaczerpniętej z lektury „Powiat nowosądecki” napisz co z niemieckiego oznacza podkreślone w tekście przerywaną linią słowo-nazwa miasta.

ODPOWIEDŹ:

Zadanie 5. (1 punkt)

Okopy Konfederackie to pozostałość po umocnieniach, znajdująca się w okolicach Muszynki. Odpowiedz na poniższe pytanie zaznaczając wybraną odpowiedź. Pamiętaj o przeniesieniu odpowiedzi do tabeli odpowiedzi.

Okopy Konfederackie to pozostałość po:

- A. Konfederacji Warszawskiej
- B. Konfederacji Sandomierskiej
- C. Konfederacji Barskiej
- D. żadna z powyższych odpowiedzi nie jest prawidłowa

TABELA ODPOWIEDZI DO ZADANIA 5

ZADANIE 5			
A	B	C	D

Zadanie 6. (2 punkty)

Z poniżej wymienionych nazw podkreśl te nazwy, które nie są nazwami źródojów występujących w Krynicy-Zdroju. Podpowiedź: W Krynicy występuje osiem źródojów.

Nazwy źródojów: „Karol”, „Jan”, „Główny”, „Muszynianka”, „Słotwinka”, „Józef”, „Mieczysław”, „Piwniczanka”, „Tadeusz”, „Zuber”.

MÓJ REGION – MOJA DUMA, MOJE MIASTO – MOJA DUMA

ETAP III

SZKOŁA PODSTAWOWA

Pytania do lektury: „Historia Nowego Sącza”

Zadanie 7. (3 punkty)

Dopasuj pożar (1-3), który wybuchł w Nowym Sączu i zniszczył m.in. sądecki zamek do jego przyczyny lub skutku (A-D). Przyporządkuj literę (A-D) do numeru (1-3). Uwaga! Jeden punkt został podany dodatkowo i nie pasuje do żadnego pożaru.

POŻAR

1. pożar w 1522 roku
2. pożar w 1611 roku
3. pożar w 1768 roku

ODPOWIEDŹ

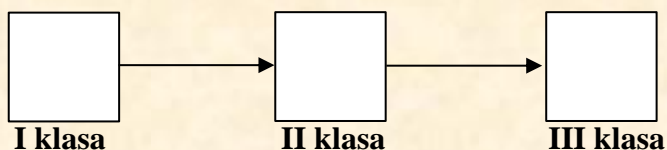
1.
2.

PRZYCZYNA LUB SKUTEK POŻARU

- A. prawdopodobnie wybuchł przez nieostrożność kucharki rodziny Łętowskich, smażących ryby dla konfederatów
- B. została wtedy strawiona wielka część zamku sądeckiego, odbudowa po tym pożarze trwała 5 lat
- C. prawdopodobnie został wzniesiony nieostrożnie przez służbę Stanisława z Wróblowic Taszyckiego, dziedzica Lusławic
- D. prawdopodobnie został wzniesiony przez nieostrożność budowniczych, którzy remontowali jeden z sądeckich kościołów

Zadanie 8. (3 punkty)

Marcin był uczniem „Kolonii Akademickiej” w Nowym Sączu. Gdy opisywał swój pobyt w szkole, wspominał: w pierwszej klasie uczono nas podstaw łaciny i ortografii, w drugiej klasie nauczono nas gramatyki, etymologii, zaś w trzeciej klasie mieliśmy zajęcia z poetyki, które prowadził rektor kolonii. Uporządkuj w odpowiedniej kolejności nazwy klas, które ukończył Marcin. Wpisz litery A-C.



KLASY:

- A. klasa gramatyki
- B. klasa rudymentów
- C. klasa poetyki

Zadanie 9. (1 punkt)

Dokończ poniższe zdanie. Wybierz odpowiedź A lub B i jej uzasadnienie 1., 2. lub 3. Pamiętaj o przeniesieniu odpowiedzi do tabeli odpowiedzi.

Stosunek Sądeczian do szwedzkiego podpułkownika Steina był:

A.	pozytywny,	ponieważ	1.	pozwoił Sądeczanom zorganizować tradycyjny jarmark na św. Marcina.
B.	negatywny,		2.	gnębił mieszczan wysokimi kontrybucjami i wywyższał arian.
			3.	nie nakładał wysokich kontrybucji i dawał mieszczanom dużo swobód.

TABELA ODPOWIEDZI DO ZADANIA 9

ZADANIE 9					
A1	A2	A3	B1	B2	B3

MÓJ REGION – MOJA DUMA, MOJE MIASTO – MOJA DUMA

ETAP III SZKOŁA PODSTAWOWA

Materiały źródłowe do zadania 10:

Materiał źródłowy nr 1: Tekst opisujący wjazd polskiego monarchy do Nowego Sącza.

„Żaloszny król wjeżdżał wieczorem do miasta bez wszelkiej okazałości, nie witany nawet, jak zwykle mowami uroczystymi. Cztery tylko pochodnie gorzały u bram miasta przez krótki czas jego pobytu. [...] Wojsko zaś królewskie rozłożyło się obozem na gruntach folwarku Wierzbiecińskiego za rzeką Łubinką. [...]

[42 słowa]

Źródło: „Historia Nowego Sącza”, ks. Jan Sygański, t. I, str. 103-104

Materiał źródłowy nr 2:



Potop szwedzki (1655-1660)

Materiał źródłowy nr 3:



Źródło: <https://naszahistoriablog.wordpress.com/wojny-ze-szwedami-2/>, dostęp 15.04.2019

Król Jan Kazimierz,
panujący w latach 1648-1668

Zadanie 10. (4 punkty)

Określ na podstawie materiałów źródłowych, które z poniższych stwierdzeń jest prawdziwe, a które fałszywe wpisując obok nich odpowiednio „prawda” lub „fałsz”.

- A. Król widoczny na ilustracji to ten sam monarcha, który występuje w tekście -
- B. Tekst opisuje sytuację, która miała miejsce podczas wojny ukazanej na mapie -
- C. Nowy Sącz jako pierwsze miasto w Polsce wyzwoliło się od najeźdźcy, podczas wojny ukazanej na mapie -
- D. Bracia Wąsowiczowie nie odegrali znaczącej roli w wyzwoleniu Nowego Sącza spod władzy okupanta w czasie wojny ukazanej na mapie -

Zadanie 11. (1 punkt)

Podkreśl prawidłowe dokończenie poniższego zadania.

Nowy Sącz w 1770 roku formalnie został wcielony do **Węgier / Rosji**.

MÓJ REGION – MOJA DUMA, MOJE MIASTO – MOJA DUMA

ETAP III

SZKOŁA PODSTAWOWA

Pytania do lektury: „Historia zamknięta w starej skrzyni”

Zadanie 12. (4 punkty)

Uzupełnij poniższy tekst. Przyporządkuj do każdego zdania właściwe uzupełnienie spośród oznaczonych literami A–C. Pamiętaj o przeniesieniu odpowiedzi do tabeli odpowiedzi.

W zielonej skrzyni znajdowały się części garderoby damskiej z drugiej połowy XIX w. i początków wieku XX. Ówczesny strój damski składał się z ogromnych 12.1. ____ chust, chustki na głowę tzw. „tybetki”, wyszywanych koralikami 12.2. ____ łąckich i podegrodzkich, kolorowych spódnic tzw. krakowskich oraz różnego rodzaju mocno nakrochmalonych halek, wyszywanych bluzek itp. Czasem na wielkie święto (np. Niedziela Palmowa, Wielkanoc) kobiety ubierały strój 12.3. ____, na który składała się haftowana bluzka, wyszywany gorset, kolorowa spódnica, koniecznie z umieszczoną pod nią ogromnych rozmiarów halką i z białym 12.4. ____ na wierzchu.

12.1.

- A. czarnych
- B. białych
- C. czerwonych

12.2.

- A. bluzek
- B. spódnic
- C. gorsetów

12.3.

- A. „łemkowski”
- B. „krakowski”
- C. „lachowski”

12.4.

- A. gorsetem
- B. żakietem
- C. fartuszkciem

TABELA ODPOWIEDZI DO ZADANIA 12

12.1.			12.2.			12.3.			12.4.		
A	B	C	A	B	C	A	B	C	A	B	C

Zadanie 13. (1 punkt)

Odpowiedz na zadane pytanie, zaznaczając wybraną przez siebie odpowiedź.

Pamiętaj o przeniesieniu odpowiedzi do tabeli odpowiedzi.

Czego według lektury „Historia zamknięta w starej skrzyni” nie przedstawiały pocztówki z okresu I wojny światowej?

- A. piszącego przy choince listu żołnierza
- B. żołnierzy w okopach
- C. fotografii ze szpitala polowego
- D. żadna z powyższych odpowiedzi nie jest prawidłowa

TABELA ODPOWIEDZI DO ZADANIA 13

ZADANIE 13			
A	B	C	D

Pytania do lektury: „Powiat nowosądecki – gmina Łącko, miasto i gmina Piwniczna”

Zadanie 14. (1 punkt)

Odpowiedz na zadane pytanie zapisując swoją odpowiedź w wyznaczonym miejscu.

Z czego – według tradycji – pozyskano materiały na budowę kościoła p.w. Jana Chrzciciela w Łącku?

ODPOWIEDŹ:

.....

.....

MÓJ REGION – MOJA DUMA, MOJE MIASTO – MOJA DUMA

ETAP III
SZKOŁA PODSTAWOWA

Ilustracja do zadania 15:



Źródło: [https://www\(...\)pl/swieto-kwitnacej-jabloni-11-1205.html](https://www(...)pl/swieto-kwitnacej-jabloni-11-1205.html), dostęp 26.04.2019

Zadanie 15. (4 punkty)

Na podstawie ilustracji uzupełnij poniższy tekst, zapisując swoją odpowiedź w wyznaczonym miejscu.

Fragment plakatu ukazany powyżej, zapowiada święto odbywające się cyklicznie od roku **15.1.** ____ (wpisz rok) w **15.2.** ____ (wpisz nazwę miejscowości). Święto jest organizowane zazwyczaj w **15.3.** ____ (wpisz nazwę miesiąca) i przyciąga wielotysięczne rzesze mieszkańców gminy i turystów. Imprezie towarzyszą wystawy prac twórców ludowych, pokazy kuchni **15.4.** ____ (wpisz rodzaj kuchni np. polskiej, regionalnej), kiermasze i festyny.

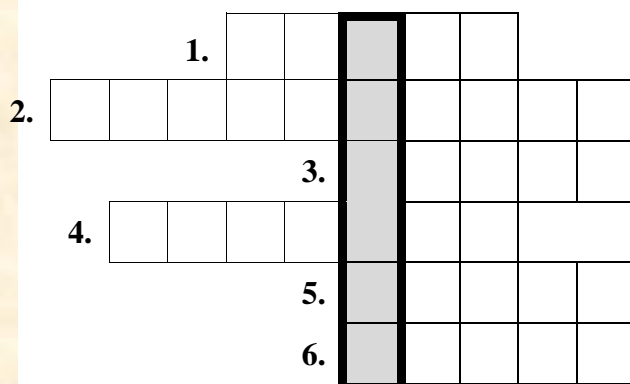
Miejsce na odpowiedź:

15.1. 15.3.
15.2. 15.4.

Zadanie 16. (7 punktów)

Rozwiąż krzyżówkę, podaj hasło i odpowiedz na zadane pytanie.

Czym kapelanem była osoba o imieniu, które jest hasłem krzyżówki?



1. Czarny.... – miejscowość w gminie Łącko.
2. Miejscowość kojarzona z Zyndramem – rycerzem walczącym pod Grunwaldem.
3. ... Chwalibóg – założycielka Zespołu Regionalnego Pieśni i Tańca „Górale Łąccy”.
4. Wznosi się w najbliższym sąsiedztwie Piwnicznej – góra (707 m n. p. m.).
5. Wąskie przejście przez góry w okolicach Piwnicznej – „piwniczna”
6. Żołnierz o pseudonimie „Tatar”.

HASŁO:

- pleban łącki, wymieniany już w 1292 r. a także kapelan

Teksty do zadania 17:

Tekst 1: Traktat w Radnot (1656 r.), tzw. „rozbiór Polski”.

Traktat w Radnot – zawarty w Radnot, 6 grudnia 1656 r. w czasie wojny polsko-szwedzkiej przez króla Szwecji Karola X Gustawa i księcia Siedmigródu Jerzego II Rakoczego oraz elektora brandenburskiego Fryderyka Wilhelma, litewskiego magnata Bogusława Radziwiłła i przywódcę powstania kozackiego Bohdana Chmielnickiego. Traktat zakładał podział ziem polskich po wygranej wojnie pomiędzy wszystkich, którzy podpisali ten traktat. Wkrótce wojska Rakoczego wkroczyły do Rzeczypospolitej.

[62 słowa]

Tekst 2: Z historii Piwnicznej.

„Okres prosperity miasta przerwały wojny, które nękały Rzeczpospolitą od połowy XVII stulecia i w I połowie wieku XVIII. W 1657 roku miasto zniszczył książę siedmogrodzki Rakoczy, sojusznik toczących z Polską wojnę Szwedów. Wojnom nie tylko towarzyszyły pożary i grabieże, ale także liczne zarazy i klęski głodu”

[46 słów]

Źródło: . Powiat nowosądecki, M. Michałowicz – Kubal, G. Kubal, Krosno 2000 r.

Zadanie 17. (3 punkty)

Rozwiąż zadania 17.1.-17.3. Zapisz swoją odpowiedź w wyznaczonym miejscu.

17.1. Na podstawie tekstów określ, czy książę Rakoczy występujący w obu tekstach to może być ta sama osoba.

ODPOWIEDŹ:

17.2. Zacytuj fragment **Tekstu 2**, który może potwierdzić Twoje stanowisko, przyjęte w zadaniu 17.1.

ODPOWIEDŹ:

17.3. Wyjaśnij, czy traktat opisany w **Tekście 1** miał wpływ na wydarzenia opisane w **Tekście 2**. Uzasadnij swoją odpowiedź.

ODPOWIEDŹ:

Pytania do lektury: „Hasła w Encyklopedii Sądeckiej: Przywilej lokacyjny Nowego Sącza, Pomniki Sądeckie”

Zadanie 18. (1 punkt)

Odpowiedz na zadane pytanie, zapisując swoją odpowiedź w wyznaczonym miejscu.

Na podstawie wiedzy własnej, zapisz datę wystwienia dokumentu, którego zdjęcie kopii jest widoczne obok. Podpowiedź, jest to jeden z pierwszych dokumentów w historii Nowego Sącza.

DATA:



MÓJ REGION – MOJA DUMA, MOJE MIASTO – MOJA DUMA

ETAP III

SZKOŁA PODSTAWOWA

Zadanie 19. (1 punkt)

Z poniżej wymienionych pomników wybierz ten, który został odsłonięty najwcześniej i ten który został odsłonięty najpóźniej. Wpisz oznaczenia literowe (A-E) w wyznaczone miejsce. Dla ułatwienia zostały podane wskazówki, dotyczące daty odsłonięcia pomnika.

- A. głaz „Skąła Pitrowa” – odsłonięty w 6 rocznicę wizyty papieża w Starym Sączu.
- B. pomnik Władysława Jagiełły – odsłonięty w 500 rocznicę bitwy pod Grunwaldem (1410).
- C. pomnik gen. J. Kustronia – odsłonięty w latach 80-tych XX wieku.
- D. pomnik – parowóz – odsłonięty w latach 80-tych XX wieku.
- E. pomnik Józefa Piłsudskiego, przy Al. Wolności – odsłonięty dwa tygodnie po ostatnim pochówku gen. Bronisława Pierackiego.

Pomnik odsłonięty
najwcześniej:

Pomnik odsłonięty
najpóźniej:

Fotografie do zadania 20:



Źródło: <http://www.nowysacz.pl/pomniki-sadeckie>, dostęp 23.04.2019



Źródło: [https://pamietajskadjestes.pl/miejsca-pamieci/polska/malopolskie/nowy-sacz/pomnik-\(...\)-\(...\)-\(...\)](https://pamietajskadjestes.pl/miejsca-pamieci/polska/malopolskie/nowy-sacz/pomnik-(...)-(...)-(...)), dostęp 23.04.2019

Źródło: Google Maps, dostęp

Zadanie 20. (3 punkty)

Podpisz pomniki ukazane na fotografiach. Odpowiedź zapisz w wyznaczonym miejscu. Uwaga! Zapisz pełne nazwy pomników oraz ich lokalizacje w Nowym Sączu.

- A.
- B.
- C.

MÓJ REGION – MOJA DUMA, MOJE MIASTO – MOJA DUMA

ETAP III

KLASY VII-VIII I GIMNAZJUM

Zadanie 1. (1 punkt)

Podaj lokalizację szpitala żydowskiego w Nowym Sączu w XX wieku.

ODPOWIEDŹ:

Zadanie 2. (2 punkty)

Z których miejscowości pochodzili rodzice Stanisława Papczyńskiego?

ODPOWIEDŹ:

Zadanie 3. (1 punkt)

Czym zajmował się Żyd z Nowego Sącza, wspominany w księgach miejskich z XV wieku?

ODPOWIEDŹ:

Zadanie 4. (1 punkt)

Któremu papieżowi ksiądz Papczyński służył jako spowiednik?

ODPOWIEDŹ:

Zadanie 5. (1 punkt)

Podaj dokładną lokalizację skrzynki kontaktowej Armii Krajowej i księgarni Arszerów.

ODPOWIEDŹ:

Zadanie 6. (2 punkty)

Podaj miejsce i rok śmierci księdza Papczyńskiego.

MIEJSCE:

ROK:

Zadanie 7. (4 punkty)

Podaj w których miejscowościach działały jednostki Związku Walki Zbrojnej.

- a. Nurt I –
- b. Karta –
- c. Pole –
- d. Łąka –

Zadanie 8. (1 punkt)

Językoznawcy nazwę miasta Nowy Sącz upatrują m.in. w imieniu kasztelana grodu. Podaj jego imię.

ODPOWIEDŹ:

MÓJ REGION – MOJA DUMA, MOJE MIASTO – MOJA DUMA

ETAP

KLASY VII-VIII I GIMNAZJUM

Zadanie 9. (2 punkty)

Podaj pierwowzory sądeckich ulic (ich wcześniejsze nazwy).

- a. Węgierska –
- b. Kazimierza Wielkiego –

Zadanie 10. (3 punkty)

Wymień 3 najdłuższe ulice nowosądeckie.

-
-
-

Zadanie 11. (3 punkty)

Wymień trzy ronda w Nowym Sączu.

-
-
-

Zadanie 12. (1 punkt)

Dlaczego Michał Korybut Wiśniowiecki pozwolił Żydom na zakup nieruchomości w N Sączu i handel w tym mieście?

ODPOWIEDŹ:

Zadanie 13. (1 punkt)

Która sądecka ulica kiedyś nosiła nazwę NOWA?

ODPOWIEDŹ:

Zadanie 14. (1 punkt)

Gdzie mieściło się Gimnazjum Hebrajskie w Nowym Sączu?

ODPOWIEDŹ:

Zadanie 15. (2 punkty)

Kim byli i z czego słynęli Cadycy?

ODPOWIEDŹ:

.....

.....

MÓJ REGION – MOJA DUMA, MOJE MIASTO – MOJA DUMA
ETAP III
KLASY VII-VIII I GIMNAZJUM

Zadanie 16. (2 punkty)

Wymień 2 skutki konfederacji barskiej dla Nowego Sącza.

- I.
II.

Zadanie 17. (1 punkt)

Kto był pierwszym rotmistrzem konfederacji barskiej powiatu sądeckiego?

ODPOWIEDŹ:

Zadanie 18. (1 punkt)

Gdzie został spisany uniwersał 24 lipca 1770 o grabieży południowej Sądectczyzny?

ODPOWIEDŹ:

Zadanie 19. (1 punkt)

Kim był Chaim Halberstaim?

ODPOWIEDŹ:

Ilustracje do zadania 20:



a.



b.

Zadanie 20. (2 punkty)

Podpisz ulice na starych pocztówkach Nowego Sącza.

- a.
b.

MÓJ REGION – MOJA DUMA, MOJE MIASTO – MOJA DUMA
ETAP III
KLASY VII-VIII I GIMNAZJUM

Ilustracja do zadania 21:



Zadanie 21. (1 punkt)

Który zespół regionalny reprezentują dziewczęta na pierwszym planie?

ODPOWIEDŹ:

Zadanie 22. (1 punkt)

Który sądecki kościół przedstawił na swoim obrazie Nikifor?

ODPOWIEDŹ:

MÓJ REGION – MOJA DUMA, MOJE MIASTO – MOJA DUMA

ETAP III

SZKOŁA PONADGIMNAZJALNA

Pytania do lektury: „Znaki miasta Nowego Sącza”

Zadanie 1. (2 punkty)

Podaj nazwę pieczęci, której dotyczy opis .

A. Jest okrągła o średnicy 56 mm. Przedstawia św. Małgorzatę i smoka. Smok na pierwszym planie, ponad nim widoczna św. Małgorzata w koronie i nimbie wokół głowy. W prawej ręce trzyma krzyż uniesiony do góry, a w lewej lejce, którymi trzyma smoka”.

ODPOWIEDŹ:

B. Jest okrągła o średnicy 65 mm. Święta Małgorzata siedzi na tronie w sukni i płaszczu, na głowie ma bujne włosy i koronę, w prawej ręce trzyma krzyż, którego drzewcem godzi smoka. W lewej ręce trzyma model kościoła. Smok kroczy w prawo na dwóch łapach.

ODPOWIEDŹ:

Zadanie 2. (1 punkt)

Z którego roku pochodzi najstarszy dokument, przy którym wisiała pieczęć Nowego Sącza?

- A. 1323 rok
- B. 1329 rok
- C. 1343 rok
- D. 1531 rok

Zadanie 3. (1 punkt)

Jak nazywa się jedyna pieczęć Nowego Sącza, na której nie występuje św. Małgorzata? Podaj jej nazwę.

ODPOWIEDŹ:

Zadanie 4. (3 punkty)

Wymień nazwy trzech miejsc w Nowym Sączu, gdzie w herbie miasta zobaczymy trzy wieże i otwartą bramę ze zbrojnym rycerzem.

1.
2.
3.

MÓJ REGION – MOJA DUMA, MOJE MIASTO – MOJA DUMA

ETAP III

SZKOŁA PONADGIMNAZJALNA

Zadanie 5. (4 punkty)

Zapisz Prawda – przy zdaniach prawdziwych, a Falsz- przy zdaniach fałszywych

1.	W 1938 roku zapadła decyzja o powrocie św. Małgorzaty do herbu Nowego Sącza.	
2.	W 1987 roku decydującą rolę w przywróceniu do herbu Nowego Sącza Świętej Małgorzaty odegrał Henryk Dobrzański.	
3.	W 2017 roku Rada Miejska na podstawie decyzji Komisji Heraldycznej przyjęła projekt ze złotym smokiem w herbie.	
4.	W hali krakowskich Sukiennic znajduje się herb Nowego Sącza przedstawiający św. Małgorzatę.	

Zadanie 6. (1 punkt)

Jak brzmią słowa dewizy umieszczonej na sztandarze miasta Nowego Sącza?

ODPOWIEDŹ:

Pytania do lektury: „Błogosławiona Kinga w legendzie, literaturze, nauce”

Zadanie 7. (3 punkty)

Wymień trzech autorów *Żywotów Świętej Kingi*:

1.
2.
3.

Zadanie 8. (4 punkty)

Na podstawie opisu rozpoznaj osobę i dopasuj autora publikacji na temat św. Kingi. Wybierz spośród podanych.

A. *Utalentowany publicysta, pisarz i historyk [...], opierał swą twórczość na gruntownym poznaniu źródeł. Jego szkic poświęcony bł. Kindze, składający się z trzech esejów: "Posag", „Pierścień” i „Klasztor” przedstawił omawianą postać na tle szerokiej panoramy kraju i wydarzeń europejskich”*

•

B. *„... udało się w prostej, ale pięknej formie prozatorsko – poetyckiej ukazać najważniejsze momenty z życia sądeckiej Błogosławionej. Piękne wiersze jej autorstwa, oddające urok klasztoru, Pienin, legend wielokrotnie były potem przedrukowywane”*

•

C. *„ Po drugiej wojnie światowej [...] ukazał się zaledwie jeden utwór literacki poświęcony Jej, w formie samodzielnego wydawnictwa, pt.”Boża ścieżka królowej Kunegundy. Historia i legenda” napisany przez [...] ”*

•

MÓJ REGION – MOJA DUMA, MOJE MIASTO – MOJA DUMA

ETAP III
SZKOŁA PONADGIMNAZJALNA

D. „Ukoronowaniem prac hagiograficznych jest wydanie przez [...] „Żywotu świętej Kingi księżnej krakowskiej” w 1997 roku. Po raz pierwszy wydano w języku polskim tłumaczenie pierwszego „Żywota” bł. Kingi napisanego przez franciszkanina wraz z tekstem oryginalnym łacińskim. W ten sposób [...] spełnił od dawna wysuwane życzenia nie tylko historyków, ale licznego grona wiernych czytelników”

-

1. Zofia Budkowa	2. Janina Porazińska	3. Maria Sandoz
4. Bolesław Przybyszewski	5. Karol Szajnocha	6. Stanisław Załęski

Zadanie 9. (4 punkty)

Uzupełnij poniższy tekst brakującymi informacjami.

„Wszystkie pisane do XX wieku żywoty Kingi i prace naukowe na jej temat wychodziły z kręgu osób spoza klasztoru. W okresie międzywojennym nastąpił przełom w tym względzie. Po raz pierwszy dzieło o charakterze naukowym i hagiograficznym wyszło z kręgu klarysek. Dzieło o sądeckiej Pani pt.” **9.1.** napisała siostra Maria **9.2.** , klaryska ze starosądeckiego klasztoru . Biogram bł. Kingi, znajdujący się w „Encyklopedii Powszechnej Ilustrowanej”, za datę urodzin Kingi podaje **9.3.** rok a nie jak dotąd 1224. Autor biogramu przytacza również informację, że pieśń **9.4.** „.....” napisał na życzenie Kingi jej spowiednik franciszkanin Bogufał.”

Zadanie 10. (1 punkt)

W 1938 roku Józef Krzyżanowski ogłosił artykuł pod przekornym tytułem „Czy (...) zbudowano za posag św. Kingi?”, dowodzący, że lokacja tego miasta mogła się odbywać za pieniądze bł. Kingi. O jakim mieście pisał autor artykułu? Podkreśl poprawną odpowiedź.

- A. Nowy Sącz
- B . Stary Sącz
- C. Kraków
- D. Sandomierz

Pytania do lektury: „Nowy Sącz jako stolica województwa nowosądeckiego”

Zadanie 11. (4 punkty)

Województwo nowosądeckie powstało w wyniku reformy administracji w 1975 roku i objęło swoim zasięgiem cztery zlikwidowane wówczas powiaty. Podaj ich nazwy.

1.
2.
3.
4.

MÓJ REGION – MOJA DUMA, MOJE MIASTO – MOJA DUMA

ETAP III

SZKOŁA PONADGIMNAZJALNA

Zadanie 12. (1 punkt)

Jak nazywał się pociąg ekspresowy łączący Nowy Sącz ze stolicą? Podkreśl poprawną odpowiedź.

- A. Dunajec
- B. Tatry
- C. Pieniny
- D. Karpaty

Zadanie 13. (2 punkty)

Do największych inwestycji rządowych na terenie województwa nowosądeckiego należało wybudowanie dwóch zapór i zbiorników wodnych. Podaj nazwy miejscowości w których one powstały.

ODPOWIEDŹ:

Zadanie 14. (4 punkty)

Przyporządkuj nazwiska urzędników związanych z istnieniem województwa nowosądeckiego do stanowisk przez nich zajmowanych. [przyporządkuj literę (A-D) do numeru (1-4)]

Osoba	Urząd
A. Henryk Kosteczki	1. Ostatni wojewoda województwa nowosądeckiego
B. Lech Bafia	2. Powołany na prezydenta Nowego Sącza w 1975 roku
C. Lucjan Tabaka	3. Pierwszy wojewoda województwa nowosądeckiego
D. Wiesław Oleksy	4. Pierwszy przewodniczący Wojewódzkiej Rady Narodowej
A.	B. C. D.

Pytania do lektury: „Jan Długosz ojciec historiografii polskiej i jego związki z Sądcczyną”

Zadanie 15. (1 punkt)

Jan Długosz w swoim dziele *Liber beneficiorum dioecesis Cracoviensis* opisał działalność osadniczą oraz fundacyjną księżnej Kingi. Na ile został oszacowany jej posag, wykorzystany przez Bolesława Wstydliwego do odbudowy kraju?

- A. 20 tysięcy grzywien srebra
- B. 30 tysięcy grzywien srebra
- C. 40 tysięcy grzywien srebra
- D. 50 tysięcy grzywien srebra

MÓJ REGION – MOJA DUMA, MOJE MIASTO – MOJA DUMA

ETAP III
SZKOŁA PONADGIMNAZJALNA

Zadanie 16. (1 punkt)

Jakie słowa znajdują się przy tablicy patrona I Liceum Ogólnokształcącego w holu głównym szkoły?

- A. „Ojczyzna to wielki zbiorowy obowiązek”
- B. „Nie chcecie ojczyzny, która was nic nie kosztuje”
- C. „Każdy jest dłużen ojczyźnie swej tyle na ile go stać”
- D. „Paść może i naród wielki, zniszczyć tylko nikczemny”

Zadanie 17. (2 punkty)

Dopisz osoby fundatorów dwóch najstarszych klasztorów w Nowym Sączu.

A. Klasztor Braci Mniejszych Konwentualnych (franciszkański) –

.....

B. Klasztor św. Norberta (norbertanów) w kościele szpitalnym św. Ducha –

.....

Tekst do zadania 18:

„Dziedzic Łącka, [...] legendarny możnowładca i właściciel zamków Czorsztyń (Dunajec), Rytro i Lemiesz, w których znajdowali schronienie przed Tatarami książęta Bolesław Wstydlivy i Kinga. Był zwolennikiem i orędownikiem sprowadzenia na ziemie polskie Krzyżaków[...].”

Zadanie 18. (1 punkt)

Kogo w powyższym fragmencie opisuje Jan Długosz?

ODPOWIEDŹ:

Pytania do lektury: „Stary Sącz – rys historyczny”

Zadanie 19. (5 punktów)

W zadaniach 19.1. – 19.5. znajdują się pytania z podstawowej wiedzy o Starym Sączu, wybierz i zaznacz w nich jedną prawidłową odpowiedź

19.1. W którym roku Kinga ufundowała klasztor klarysek?

- A. 1257 r.
- B. 1273 r.
- C. 1280 r.
- D. 1292 r.

19.2. Kto dokonał niszczycielskiego najazdu na miasto w 1410 roku?

- A. Zygmunt Luksemburski
- B. Ścibor ze Ściborzyc
- C. Jan ze Szczekocin
- D. Spytko z Jarosławia

MÓJ REGION – MOJA DUMA, MOJE MIASTO – MOJA DUMA

ETAP III

SZKOŁA PONADGIMNAZJALNA

19.3. Czyje wstawiennictwo przyspieszyło proces beatyfikacji św. Kingi?

- A. Papieża Aleksandra VIII
- B. Króla Jana III Sobieskiego
- C. Starosty sądeckiego Aleksandra Lubomirskiego
- D. Prymasa Polski i Litwy Andrzeja Olszowskiego

19.4. W który roku Stary Sącz dostał się pod panowanie Austrii?

- A. 1768 rok
- B. 1769 rok
- C. 1770 rok
- D. 1772 rok

19.5. Kto pełnił urząd burmistrza miasta od 1939 do 1944 roku?

- A. Wincenty Gawor
- B. Fryderyk Spiess
- C. Franciszek Lawitschka
- D. Józef Leopold Kmietowicz

Pytania do lektury: *„Hasła w Encyklopedii Sądeckiej: Galicja, Lachy Sądeckie, Przywilej lokacyjny Nowego Sącza, Pomniki sądeckie”*

Zadanie 20. (1 punkt)

Podaj oficjalną nazwę prowincji utworzonej z południowych ziem polskich zagarniętych przez Austriaków w drugiej połowie XVIII wieku.

ODPOWIEDŹ:

Zadanie 21. (1 punkt)

Jaka miejscowość Sądeczyny uznawana jest za główny ośrodek Lachów Sądeckich?

ODPOWIEDŹ:

Zadanie 22. (1 punkt)

„Jeśli my zapomnimy o nich, to niech Bóg zapomni o nas”

Na którym z sądeckich pomników widnieje powyższy napis. Podaj nazwę tego pomnika.

ODPOWIEDŹ:

MÓJ REGION – MOJA DUMA, MOJE MIASTO – MOJA DUMA
ETAP III
SZKOŁA PONADGIMNAZJALNA

Fotografie do zadania 23:



A. Zdjęcie nr 1



B. Zdjęcie nr 2



C. Zdjęcie nr 3



D. Zdjęcie nr 4

Zadanie 23. (8 punktów)

Rozpoznaj pomniki znajdujące się na zdjęciach 1-4 oraz wskaż ich lokalizację.

A. Zdjęcie nr 1

Nazwa obiektu:

Lokalizacja:

B. Zdjęcie nr 2

Nazwa obiektu:

Lokalizacja:

C. Zdjęcie nr 3

Nazwa obiektu:

Lokalizacja:

D. Zdjęcie nr 4

Nazwa obiektu:

Lokalizacja:

Zadanie 24. (1 punkt)

Podaj dokładną datę (dzień, miesiąc, rok) lokowania Nowego Sącza.

ODPOWIEDŹ:

Zadanie 25. (1 punkt)

Jaki okres czasu dostało nowo założone miasto Nowy Sącz na osiedlenie stu łanów przyznanych mu w przywileju lokacyjnym? Wybierz odpowiedź spośród podanych.

- A. 5 lat
- B. 10 lat
- C. 15 lat
- D. 20 lat



INSTYTUT
PAMIĘCI
NARODOWEJ



KURATORIUM OŚWIATY
W KRAKOWIE





Sądeczanie
MIESIĘCZNIK I PORTAL INTERNETOWY